

2026年度 第2回 入学試験問題

社 会 (25分)

解答はすべて解答用紙に記入しなさい。



写真1



写真2

(日本銀行Web サイトより引用)

1 次の文章を読んで、あとの問いに答えなさい。

みなさんは①通貨という言葉を知って、どのようなものを思いかべますか？日本の歴史をみても、さまざまな通貨が流通してきました。7世紀には日本最古の貨幣である富本銭が発行されました。その後②8世紀に入ると、この後の国産銭の基本形となる銭（左ページ写真1）がつくられ、10世紀まで朝廷が銭を発行しました。日本で銅が取れなくなった後は中国などから銭を輸入しますが、輸入された銭には通貨としてだけでなく、他の使い道もありました。例えば、現在③鎌倉に残る大仏は、その金属の成分が④宋銭のものと同じであることから輸入された宋銭を溶かしてつくられたとされています。16世紀より前は金属通貨と言えれば銭でしたが、16世紀以降になると金貨（左ページ写真2）・銀貨が加わってきます。その背景には⑤16世紀の地球規模での銀の大増産があります。16世紀前半には銀は輸出用でしたが16世紀後半になると国内でも使われるようになりました。17世紀初頭の江戸幕府が行っていた朱印船貿易の利益を増大させていたのは、日本の通貨そのものでしたが、1635年に⑥第3代将軍の徳川家光は朱印船貿易を停止しました。⑦江戸時代の末期には、金貨が多く国外に流出しました。金貨の流出は明治時代初期にも続きました。これは、⑧日本の輸入が増え、対価として支払う金貨も増えたためです。その後政府は⑨対外的な領土を拡張し植民地化を進めてゆきますが、そこでは日本の通貨制度を導入し経済的に支配しようとしてきました。

20世紀になり、日本は第二次世界大戦の敗戦をきっかけに、⑩政治体制が大きく変わりましたが、1955年頃には一人あたりの国民所得が戦前の最高水準まで回復しました。これ以降、経済成長に伴い通貨の高額化も進みました。21世紀に入った今、バーコード決済やクレジットカードなどによる⑪キャッシュレス決済も世界的に普及し、直接⑫現金を使う機会も減っています。さらに数年前から仮想通貨としてビットコインなども登場しています。

[問1] 下線部①について、通貨には大きく分けて「ものと交換する」「もの価値を表す」「将来使うためにとっておく」という3つの役割がある。通貨の役割を説明した次の文のうち、「ものと交換する」という役割が最も強く表れているものを、ア～エから1つ選び、記号で答えなさい。ただし、いずれの文も歴史的事実としては正しい。

- ア. 12世紀頃の日本のある地域では、絹織物と引き換えに商品を手に入っていた。
- イ. 江戸時代の大商人は小判を千両箱に入れていた。
- ウ. 江戸時代後期のそばは1杯16文で、いなりずし1切れが4文だった。
- エ. 1994年に155円だったインスタント麺が、2025年には236円になった。

[問2] 下線部②について、現在の山口県にあった長登銅山をはじめとして8世紀前後の日本列島にはアクセスしやすい銅鉱山があり、このことが中国にならった銅銭の発行や大仏の建造につながった。また、長登銅山でとれる銅は約1億年前にこの地域の石灰岩とマグマが反応してできたものである。

(1) 8世紀の日本について説明した文としてあやまっているものを、次のア～エから1つ選び、記号で答えなさい。

- ア. 桓武天皇が京都に平安京とよばれる新しい都をつくった。
- イ. 藤原道長・頼通父子が朝廷の高い位につき、天皇に代わって政治を行った。
- ウ. 都では感染症が広まり、地方では貴族の反乱が起こった。
- エ. 墾田永年私財法が出され、私有地が大きく広がった。

(2) この地域に多く見られる、石灰岩などの水に溶けやすい岩石が雨水や地下水などによって侵食されてできた地形のことを何と呼ぶか、次のア～エから1つ選び、記号で答えなさい。

- ア. シラス台地    イ. リアス海岸    ウ. カルスト地形    エ. カルデラ

(3) 長登銅山の周辺にある石灰岩は、日本の高度経済成長も支えていた。なぜそのように言えるのか、説明せよ。

[問3] 下線部③と関連して、鎌倉時代について書かれた次のA・Bの文を読み、それぞれの文章が「正（ただし）」か「誤（あやまっている）」かの正しい組み合わせを、下のア～エから1つ選び、記号で答えなさい。

- A. 鎌倉幕府は承久の乱で後鳥羽上皇側についた武士から土地を取り上げ、新たに地頭を任命したことで西日本における影響力を強めた。
- B. 鎌倉時代にはじまった天台宗は、山の中での厳しい修行が必要であったにも関わらず広く民衆や武士に受け入れられた。

- ア. A : 正    B : 正                      イ. A : 正    B : 誤
- ウ. A : 誤    B : 正                      エ. A : 誤    B : 誤

[問4] 下線部④について、宋銭が日本に輸出された背景の一つに、フビライ＝ハンの元が銅銭の使用を禁じて新しく紙幣を発行したことがある。元と日本との関係について説明した文として正しいものを、次のア～エから1つ選び、記号で答えなさい。

- ア. 輸入された銅銭は、元に滅ぼされた国の通貨だったと考えられる。
- イ. 当時の幕府の将軍は北条時宗であり、元との戦いを決断した。
- ウ. 御家人たちは戦いのあと十分な奉公をもらえず幕府に不満を持った。
- エ. 日本と元との海上交易の窓口として下田港が開港された。

[問5] 下線部⑤について、この時期に世界で流通した銀の多くは現在の島根県にある銀山で産出された。世界遺産にも認定されているこの銀山の名称を漢字4字で答えなさい。

[問6] 下線部⑥について、徳川家光は1635年の武家諸法度で各地の大名に対し領地と江戸を定期的に往来することを義務付けた。この制度は漢字4字で■□□□と呼ばれるが、■にあてはまる漢字1字を答えなさい。

[問7] 下線部⑦に関連して、第8代将軍の徳川吉宗は享保の改革で、幕府財政の立て直しを図った。享保の改革について書かれた次のア～オの文のうち「幕府財政の立て直し」と最も関係のうすいものを、1つ選び、記号で答えなさい。

- ア. 貨幣の発行量を増やすことで物価を下げることに成功した。
- イ. 武士たちには節約にはげむことを命じ、ぜいたくを禁止した。
- ウ. 町人による新田開発を進めることで、幕府に納めさせる年貢を増やした。
- エ. 有力な商人に米を買い占めさせることにより、米の価格を上げようとした。
- オ. 貧しい人々のため無料で医療をほどこし入院させる小石川養生所を作った。

[問8] 下線部⑧について、なぜこのようなことが生じたか説明しなさい。その際に江戸時代末期に外国と結んだ条約の名称と、その不平等な内容をあげて説明すること。

[問9] 下線部⑨について、次のア～オの文は日本の対外的な領土拡張について説明している。これらを古い順に並べたとき、2番目と4番目にあたるものを、それぞれ記号で答えなさい。

- ア. 韓国併合を行う。
- イ. 下関条約で台湾を併合する。
- ウ. 琉球を沖縄県として日本に編入する。
- エ. ポーツマス条約で南樺太を日本に併合する。
- オ. 第一次世界大戦の講和条約で太平洋の島々を委任統治領とする。

[問 10] 下線部⑩について、日本は戦後に国民主権となり、また国会・内閣・裁判所の3つの機関で重要な役割を分担する現在の制度が整えられた。

(1) 日本の政治のしくみについて説明した文として正しいものを、次のア～エから1つ選び、記号で答えなさい。

- ア. 裁判所は現在の法律で裁くことができない事例が出てきた場合、新たに法律を制定し、裁判を行うことがある。
- イ. 内閣は外国との交渉を通じて条約を結ぶことができるが、必ず国会で条約の承認を受ける必要がある。
- ウ. 内閣は予算案を作成しているが、高齢化に伴って社会保障費が増えるなかで国の収入の約半分が公債（借金）で補われていることが問題となっている。
- エ. 国民主権の原則にのっとり、国民は内閣総理大臣と最高裁判所の長官を選挙で選ぶことができる。

(2) 国民主権が表れているものとして国政選挙があり、そのうち参議院議員選挙は昨年実施された。次の選挙に立候補して国政を変えたいと思った現在22歳のAさん、現在25歳のBさん、そして現在28歳のCさんの3人の日本国民がいるとして、それぞれの人物について説明した文として正しいものを、次のア～オから2つ選び、記号で答えなさい。

- ア. Aさんは次の参議院の選挙には立候補できるが、次の衆議院の選挙には立候補できない。
- イ. Aさんは衆議院・参議院どちらの選挙にも立候補できない可能性がある。
- ウ. Bさんは衆議院・参議院どちらの選挙にも立候補できる。
- エ. Cさんは次の参議院の選挙には立候補できないが、次の衆議院の選挙には立候補できる。
- オ. Aさん、Bさん、Cさんともに、次に行われる国政選挙で投票する権利を持っている。

[問 11] 下線部⑪と関連して、昨年開催されていた大阪・関西万博の会場内では、現金不可の完全キャッシュレス決済が導入されたことでも話題となった。キャッシュレス決済が普及した社会には便利な点もあるが、問題も起こりうる。どのような問題が起きるか、あなた以外の人の視点に立ち、答えなさい。

[問 12] 下線部⑫について、次の写真は 2024 年 7 月から使われ始めた新 1000 円札である。ここに描かれている図柄は、国立印刷局によると「知名度も高く、世界の芸術家に影響を与えた」作品であるとされる。この絵画の作者を下のア～エから 1 つ選び、記号で答えなさい。



(日本銀行 Web サイトより引用)

ア. 尾形光琳      イ. 歌川広重      ウ. 東洲斎写楽      エ. 葛飾北斎

2 次の文章を読んで、あとの問いに答えなさい。

2025年4月13日から10月13日までの184日間にわたって、日本国際博覧会（大阪・関西万博）が大阪市で開催されました。テーマは「【 X 】未来社会のデザイン」。日本で開かれる登録博覧会としては、1970年、2005年に次いで3回目となりました。1970年に開催された大阪万博は、日本、そしてアジアで最初のもので、日本の【 Y 】を象徴する一大イベントとなりました。2005年の愛知万博は、愛・【 Z 】博ともいわれ、「自然の叡智」をテーマに、人類と自然との共生を考えるものとなりました。

大阪・関西万博の会場を一周する大屋根リングは、「多様でありながら、ひとつ」という理念を表す建築物です。日本の神社仏閣などの建築に使用されてきた伝統的な貫接合に、現代の工法を加えて建築しています。会場の主動線として円滑な交通空間であると同時に、雨風、日差し等をさえぎる快適な空間として利用されました。世界中の国・地域と国際機関が、自然や文化、技術、取り組みを、それぞれの会場で披露し、国内外から多くの人たちが来場しました。

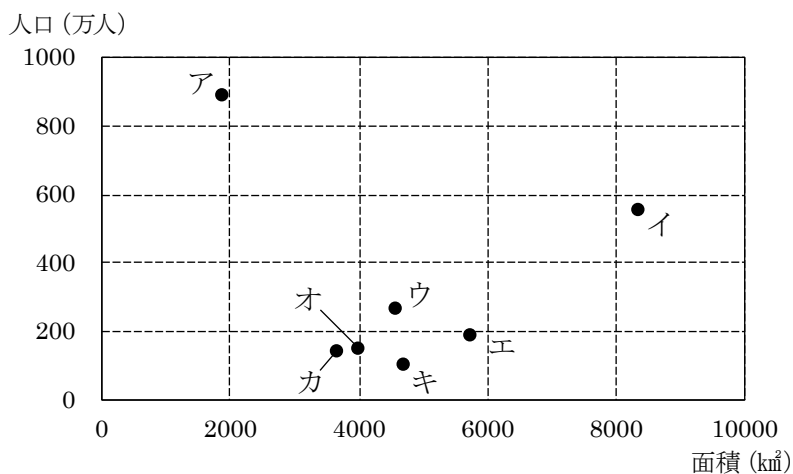
[問1] 文中の【 X 】～【 Z 】にあてはまる語句を、次のア～サからそれぞれ選び、記号で答えなさい。

- ア. 地球                      イ. 世界                      ウ. 日本                      エ. 国際化  
オ. 平和で明るい          カ. いのち輝く              キ. 緑あふれる              ク. 高度経済成長  
ケ. 持続可能な              コ. 少子高齢化              サ. グローバル

[問2] 上の文章の下線部について、日本の神社仏閣に関して説明した次の文のうち、あやまっているものを、ア～エから1つ選び、記号で答えなさい。

- ア. 旧暦の10月は神無月と呼ばれるが、全国の神々が集まる伊勢神宮の周辺では神在月といわれる。  
イ. 長野県にある善光寺の参道では、全国から参拝客が集まったことにより門前町が栄えた。  
ウ. 聖武天皇は、仏教の力で国を治めるため、東大寺に大仏を造った。  
エ. 現存する世界最古の木造建築として、法隆寺が知られている。

[問3] 次のグラフは近畿地方の各府県の面積と人口の組み合わせを表している。  
兵庫県にあたるものを、ア～キから1つ選び、記号で答えなさい。



(国土地理院資料、国勢調査より作成)

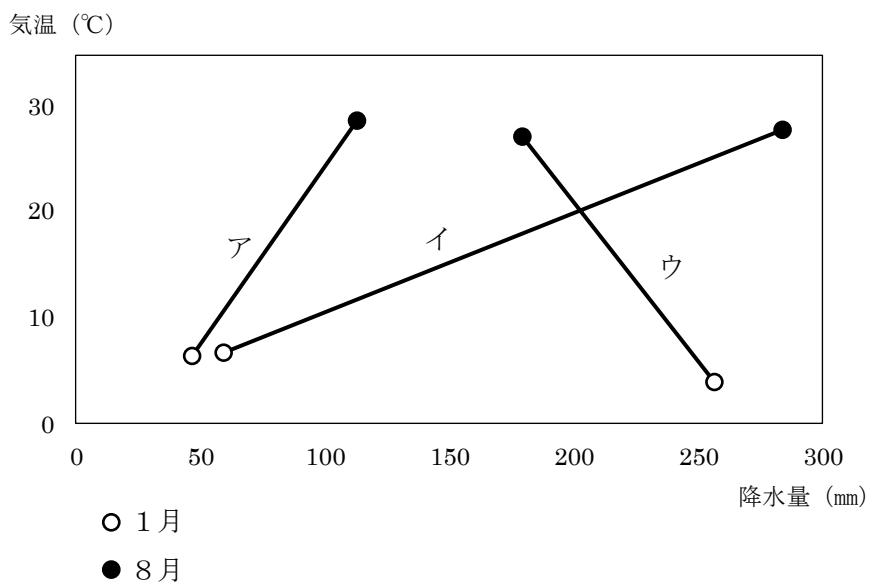
[問4] 次の表は、近畿地方の府県の土地の割合 (%) を示したものである。大阪府と滋賀県にあたるものの組み合わせとして正しいものを、下のア～エから選び、記号で答えなさい。

	耕地	林野	その他 (宅地など)
A	6.6	76.2	17.2
B	5.1	76.9	18.0
兵庫県	8.6	67.0	24.4
C	6.3	30.0	63.7
京都府	6.4	74.2	19.4
D	12.4	50.9	36.7
三重県	9.8	64.3	25.9

(『データブック オブ・ザ・ワールド 2025』より作成)

- ア. 大阪府 : B    滋賀県 : A            イ. 大阪府 : C    滋賀県 : A  
 ウ. 大阪府 : B    滋賀県 : D            エ. 大阪府 : C    滋賀県 : D

[問5] 次のグラフは、金沢、大阪、高知の各地点における1月と8月の平均気温と降水量の組み合わせを表したものである。大阪にあたるものを、ア～ウから1つ選び、記号で答えなさい。

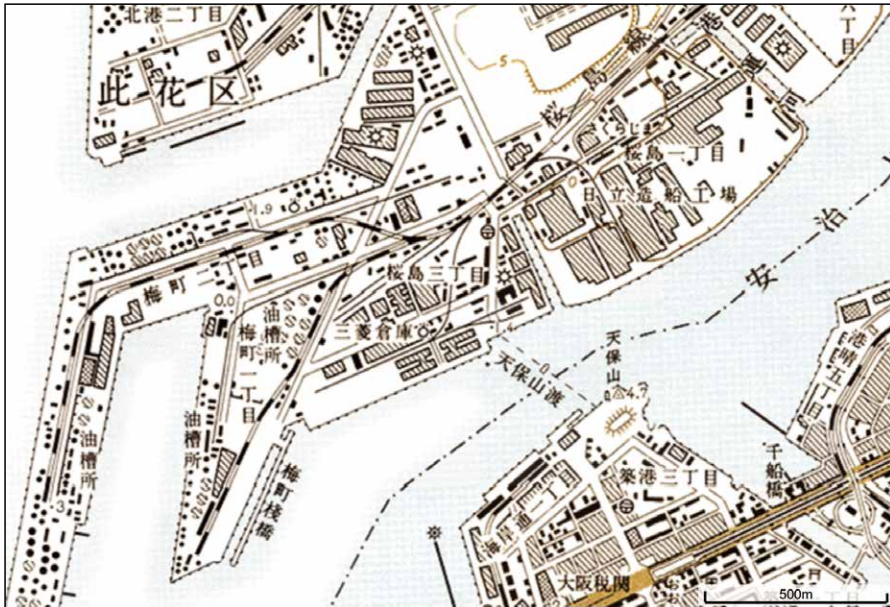


(気象庁資料より作成)

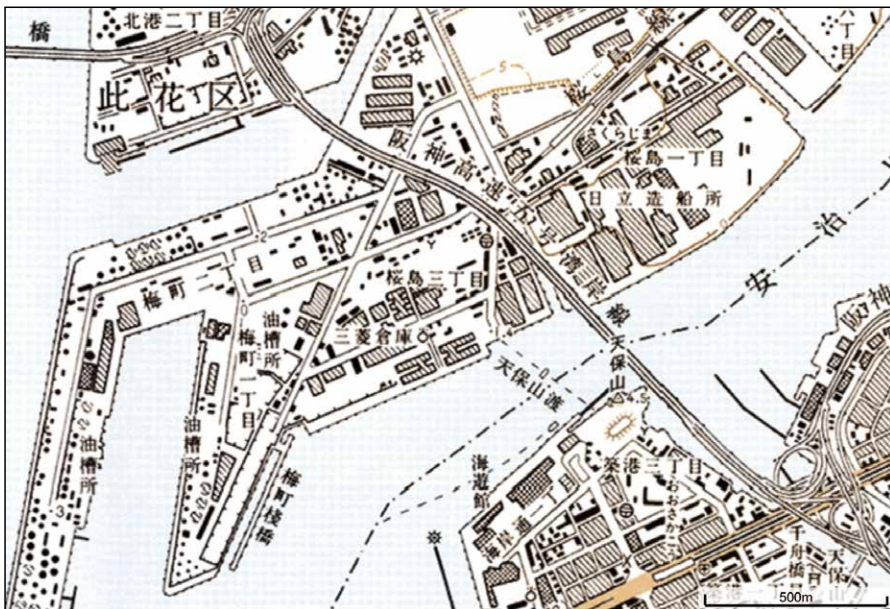
[問6] 大阪・関西万博の会場となった地名を、次のア～エから1つ選び、記号で答えなさい。

ア. 豊洲      イ. 夢洲      ウ. 中州      エ. 夢の島

[問7] 大阪・関西万博の会場の周辺は、時代と共に土地利用が大きく変化した。  
次の3つの地図はこの地域の1977年、1995年、2025年の様子をそれぞれ表している。地図から読み取れることを説明した次ページの ア～エ の文のうち、あやまっているものを1つ選びなさい。ただし、地図はすべて北が上である。



1977年の地図



1995年の地図



2025年の地図

(地理院地図、『今昔マップ』より作成)

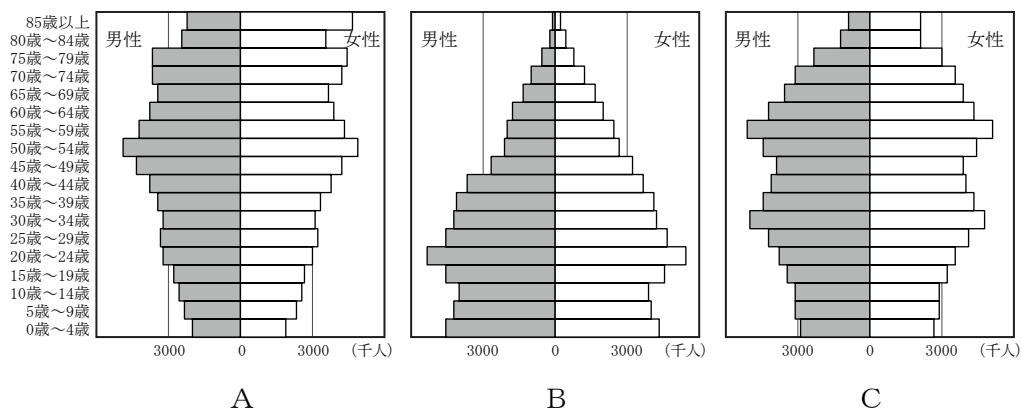
- ア. 2025年に「ユニバーサル・スタジオ・ジャパン」がある場所には、かつて造船所があった。
- イ. 「海遊館」という施設は、1977年から1995年の間につくられた。
- ウ. 地図中を北西から南東へ通る高速道路は、1995年には存在しなかった。
- エ. かつて造船工場や油槽所<sup>ゆそうじょ</sup>を結んでいた桜島線という鉄道は、2025年には以前と違う経路を走っている。

[問 8] 大阪湾にそそぐ川をさかのぼってゆくと京都に行き着く。

- (1) 大阪湾にそそぐときの この川の名前を漢字 2 字で答えなさい。
- (2) 京都に向かう途中にある、両側に山がせまる場所では過去には合戦が数度行われた。本能寺の変の直後にここで行われた戦いで、豊臣秀吉率いる軍勢と戦ったのは誰か。次のア～エから 1 つ選び、記号で答えなさい。

ア. 明智光秀      イ. 武田勝頼      ウ. 徳川家康      エ. 石田三成

[問 9] 次の A～C の図は、万博が開催された 1970 年、2005 年、2025 年の日本の人口ピラミッドである。正しい組み合わせを下のア～カから 1 つ選び、記号で答えなさい。



(国勢調査、人口推計より作成)

	ア	イ	ウ	エ	オ	カ
1970 年	A	A	B	B	C	C
2005 年	B	C	A	C	A	B
2025 年	C	B	C	A	B	A

[問 10] 次の表は、阪神、中京、京浜、北九州の各工業地帯や工業地域の品目別の製造品出荷額を示している。表の中のAとYにあてはまる語句の組み合わせとして正しいものを、下のア～エから1つ選び、記号で答えなさい。

	金属	A	B	食品	せんい	その他
京浜	231	1114	621	278	14	212
阪神	741	1360	778	379	40	213
X	610	4027	711	286	42	217
Y	180	408	138	129	6	83

(単位：百億円)

(産業構造実態調査より作成 統計年次は2021年)

	ア	イ	ウ	エ
A	化学	機械	化学	機械
Y	中京	中京	北九州	北九州

2026年度 第2回 入学試験 社会 解答用紙

受験番号					氏名	
------	--	--	--	--	----	--

1

問1	
----	--

問2	(1)		(2)	
	(3)			

問3	
----	--

問4	
----	--

問5				
----	--	--	--	--

問6	
----	--

問7	
----	--

問8	

問9	2番目		4番目	
----	-----	--	-----	--

問10	(1)		(2)	
-----	-----	--	-----	--

問11	

問12	
-----	--

ここには記入しないこと

--

2

問1	X		Y		Z	
----	---	--	---	--	---	--

問2	
----	--

問3	
----	--

問4	
----	--

問5	
----	--

問6	
----	--

問7	
----	--

問8	(1)		(2)	
----	-----	--	-----	--

問9	
----	--

問10	
-----	--

1

--

2

--