

2024年度 第2回 入学試験問題

社 会 (25分)

解答はすべて解答用紙に記入しなさい。

- 1 次の文章は、4月から成城学園中学校に入学する城太郎君と高校1年に在籍^{ざいせき}する姉の成美さんの会話です。この会話文を読み、あとの問いに答えなさい。

成：城太郎も中学生だね。①成城学園で楽しみにしていることは何？

城：宿泊行事かな。中学1年生では「海の学校」があるんだっけ？

成：そう。②千葉県で水泳訓練やライフセービング実習をするよ。

③東日本大震災で「海の学校」が廃止されるかもしれなかったけれど、先生たちの強い思いがあって残されたんだよ。

城：そうなんだ！中学2年生では登山に行くよね。

成：「山の学校」のことね。北アルプスの山を登る行事で、登る山の中で一番高いのは長野県と【 ④ 】の県境にそびえる槍ヶ岳^{やりがたけ}ね。標高3180メートルで、⑤日本で5番目に高い山よ。初めて槍ヶ岳に登ったのは、⑥江戸時代のお坊さんなんだって。

城：北アルプスってことは飛騨山脈か。すごいところに登るんだね。

成：すごいよね。ちなみに、山の学校が現在のように全員で参加する学校行事になったのは、⑦1950年代らしいよ。

城：へー、そうなんだ。

成：そして、私が中学3年生のときには研修旅行として、福島県にあるブリティッシュヒルズに行ったよ。

城：ブリティッシュってことは、⑧イギリスに何か関係があるの？

成：そう！ブリティッシュヒルズは、日本にいながらイギリス風の生活を体験することができる場所なの。今年度の中学3年生は、福島以外に⑨日光へ行って東照宮を見学もしたらしいよ。

- [問1] 下線部①について、成城学園は大正デモクラシーの中で個性尊重をかかげて1917年に設立された。起きた時期が最もこの年に近いものを次のア～エから1つ選び、記号で答えなさい。

ア. 海軍の軍人たちが犬養毅首相を暗殺した。

イ. 天皇主権の大日本帝国憲法が制定された。

ウ. 選挙権が20歳以上の全ての男女に認められた。

エ. 米騒動が全国に拡大し、首相が軍に出動を命じた。

[問 2] 下線部②について、千葉県に関する説明としてあやまっているものを、次のア～エから 1 つ選び、記号で答えなさい。

- ア. 千葉県の加曽利貝塚は、日本最大級の弥生時代の貝塚である。
- イ. 千葉県一帯は、平安時代に平将門によって占領された。
- ウ. 東京湾沿いにある京葉工業地域は、化学工業がさかんである。
- エ. 銚子港は、2022 年まで 12 年連続で水揚^{みずあ}げ量が日本一である。

[問 3] 下線部③について、東日本大震災は東北地方に大きな被害をもたらした。そこからの復興を目指し、2012 年に復興庁が設置された。

(1) 復興庁を含む日本の省庁について説明した文として、あやまっているものを、次のア～エから 1 つ選び、記号で答えなさい。

- ア. 復興庁は、震災発生から 10 年後の 2021 年で廃止される予定であったが、2031 年まで存続されることになった。
- イ. 文部科学省は、学校の先生の数や建物の基準を決めるが、近年は先生の数が不足していることへの対応が求められている。
- ウ. 防衛省は、自衛隊を管理・運営する仕事をしており、防衛大臣が自衛隊の最高指揮権をもっている。
- エ. こども家庭庁は、省庁の枠をこえて子どもに関する社会問題に対応するために、2023 年 4 月に新しく設置された。

(2) 東日本大震災では、発生直後からテレビや新聞などで被害の状況が伝えられた。しかし、1944 年 12 月の昭和東南海地震では、大きな被害が出ていたが、政府は情報を制限して、国民に状況を伝えなかった。政府が情報を制限した理由を、当時の日本の状況を考えて答えなさい。

[問4] 空らん【 ④ 】に当てはまる県として正しいものを、次のア～エから1つ選び、記号で答えなさい。

- ア. 石川県 イ. 岐阜県 ウ. 静岡県 エ. 山梨県

[問5] 下線部⑤について、日本で一番高い山である富士山を題材に「富嶽三十六景」を描いた浮世絵画家は「□□■□」である。■に当てはまる漢字1字を答えなさい。

[問6] 下線部⑥について、江戸時代について説明した文として、正しいものを次のア～エから1つ選び、記号で答えなさい。

- ア. 徳川家康は1603年に朝廷から関白に任じられて、江戸に幕府を開いた。
イ. 「鎖国」後にも、商人は朱印状があれば東南アジアに向かうことが許された。
ウ. シャクシャインらは、アイヌの人々にとって不利な交易を行う松前藩と戦った。
エ. 浮世絵は一枚ずつ筆で描かれたため、当時は非常に高価なものであった。

[問7] 下線部⑦について、1950年代に朝鮮戦争が起こり、サンフランシスコ平和条約の成立につながった。その結果、1952年4月28日に日本は主権を回復した。

(1) 日本と朝鮮半島との関係について説明した文として正しいものを、次のア～エから1つ選び、記号で答えなさい。

- ア. 663年に日本は朝鮮半島に出兵し、白村江の戦いで勝利した。
- イ. 徳川綱吉が将軍になると、それを祝うために朝鮮通信使が来日した。
- ウ. 1910年に日本が朝鮮を植民地化したことで、日清戦争が起こった。
- エ. 日本は1965年に、韓国と北朝鮮の両方と国交を樹立した。

(2) 2013年に日本政府が4月28日を「主権回復の日」として式典の開催^{かいさい}を決めると、沖縄などからこの日を「屈辱^{くつじやく}の日」として反対の声があがった。沖縄で反対の声があがった理由について、説明しなさい。

[問8] 下線部⑧について、イギリスについて説明した文として、あやまっているものを、次のア～エから1つ選び、記号で答えなさい。

- ア. 1886年に発生したイギリス船ノルマントン号の沈没事件^{ちんぼつ}をきっかけに、日本国内で条約改正を求める声が高まった。
- イ. 1902年にイギリスと日本は同盟を結んだが、日露戦争においてイギリス軍がロシア軍と直接戦うことはなかった。
- ウ. 1945年に国際連合が発足すると、イギリスは安全保障理事会の常任理事国となり、現在にいたる。
- エ. 2020年にイギリスはEUから離脱したが、離脱後も、EUの共通通貨であるユーロを国内で使用し続けている。

[問9] 下線部⑨について、日光東照宮は1999年に「日光の社寺」として世界遺産に登録された。世界遺産について説明した文として、あやまっているものを、次のア～エから1つ選び、記号で答えなさい。

- ア. 世界遺産は、国際連合の中に置かれたユネスコの世界遺産委員会で審議^{しんぎ}され、登録が決定される。
- イ. 2021年に世界遺産に登録された「北海道・北東北の縄文遺跡群」には、吉野ヶ里遺跡もふくまれている。
- ウ. 日本で初めて世界遺産に登録された「法隆寺地域の仏教建造物」は、世界最古の木造建築物をふくんでいることが評価された。
- エ. 世界遺産「明治日本の産業革命遺産 製鉄・製鋼、造船、石炭産業」には、官営八幡製鉄所もふくまれている。

城：ところで、高校にはどんな宿泊行事があるの？

成：「課外教室」と呼ばれる行事があって、いろいろなコースの中から自分が選んだところに参加するの。だから修学旅行のような学年で決まった宿泊行事は無いのよ。

城：そうなんだ。お姉ちゃんはどんなコースに参加したの？

成：私は今年の夏に、「瀬戸内体感の旅」というコースに参加したよ。松山市内の観光やしまなみ海道のサイクリング、⑩瀬戸内海の島に泊まってカヌー体験とかをしたよ。

城：へえー、コースは1つしか選べないの？

成：たくさん申し込むことができるよ。私は、冬の「⑪京都～歴史と文化にふれる～」にも申し込んだよ。ちなみに、今年度は他に、海外のコース、コーヒー豆を通じて⑫フェアトレードを学ぶコースなどもあったよ。あと、課外教室ではないけど、⑬アメリカやイギリスの高校に留学することもできるよ。

城：へえー。僕が高校生になったらどんなコースがあるか楽しみだ。

[問 10] 下線部⑩について、瀬戸内海に関連する文として、あやまっているものを、次のア～エから1つ選び、記号で答えなさい。

- ア. 正倉院に納められた琵琶^{びわ}やガラス製のおわんなどの宝物^{ほうもつ}は、中国大陸から瀬戸内海を通過して平城京へと運ばれた。
- イ. 日明貿易を進めた平清盛は、船の安全を祈って、現在の岡山県にある厳島神社を敬った。
- ウ. 江戸時代には、瀬戸内海沿岸で製塩業がさかんになり、全国に特産品として広まっていった。
- エ. 瀬戸内工業地域は、機械工業のほかに化学工業がさかんで、石油化学コンビナートが立ち並んでいる。

[問 11] 下線部⑪について、京都の歴史を説明した文として、あやまっているものを、次のア～エから1つ選び、記号で答えなさい。

- ア. 聖武天皇は、仏教の力で社会の不安をしずめて国を治めようと、東大寺に大仏をつくった。
- イ. 藤原頼通は、宇治に平等院鳳凰堂ほうおうを建てて阿弥陀如来あみだによらいをまつり、死後に極楽浄土ごくらくじょうどに行くことを願った。
- ウ. 室町幕府の8代将軍であった足利義政が東山に建てた銀閣には、書院造と呼ばれる建築様式が用いられた。
- エ. 織田信長は天下統一を進めていたが、家来である明智光秀に攻められて、本能寺で自ら命をたった。

[問 12] 下線部⑫について、フェアトレードとは、「発展途上国との貿易において、公正な取引をすることにより、途上国の人々の生活を助けるしくみ」を指す。フェアトレードに関連する文として、最もふさわしくないものを、次のア～エから1つ選び、記号で答えなさい。

- ア. サッカーボールを作る労働者に適切な賃金を支払うことで、児童労働をなくしていくことができる。
- イ. 日本国内の温暖な地域でコーヒー豆の生産を行うことで、発展途上国から安い価格で輸入するのを防ぐことができる。
- ウ. 危険な農薬を使用せずに生産されたコットン製品（綿製品）を積極的に購入こうにゆうすることで、生産者の健康を守ることができる。
- エ. 茶葉の生産者が本来受け取るべき賃金に見合った価格で取引をすることで、生産者の生活水準の向上につながる。

[問 13] 下線部⑬について、日本とアメリカとの関係について説明した文として、
あやまっているものを次のア～エから 1 つ選び、記号で答えなさい。

- ア. 津田梅子は、7歳の時に岩倉使節団とともにアメリカにわたり、帰国後は学校を開いて、女性の英語教師の育成に力を注いだ。
- イ. 第一次世界大戦では、日本とアメリカは連合国の一員としてドイツと戦い、戦勝国となった。
- ウ. アメリカは、太平洋戦争中に日本各地を空襲^{しゅう}し、多くの日本人が犠牲^{ぎせい}となった。
- エ. 現在、日本の最大の貿易相手国はアメリカであるが、日本にとって大幅な貿易赤字^{まさつ}となっており、貿易摩擦がおきている。

2 次の文章を読み、あとの問いに答えなさい。

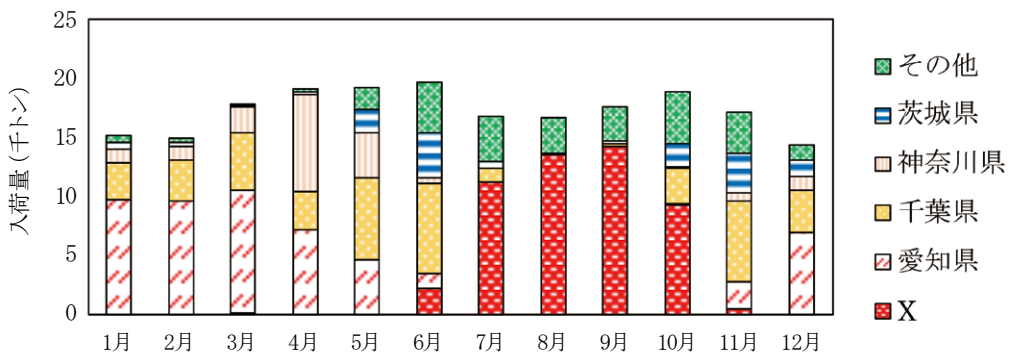
小学校での社会科は、私たちの暮らす「まち」を学ぶことから始まります。その内容は「まち」での生活が、どのようにして成り立っているのかの勉強です。

例えば、東京は世界で最も大きな都市と言われますが、多くの人が暮らすためには、多くの食べ物が必要です。そのため、東京は①日本の各地から食べ物が集まる場所です。また、戦後に多くの人が東京に集まるにつれて、②東京という都市も大きくなっていきました。さらに、③他の都市との人や物の行き来も、時代とともに発展していきました。

では、東京を含む各地の都市は、どうしてこれほど大きくなったのでしょうか？理由はたくさんありますが、明治維新以降、④都市で工業が発達したこともその一つです。今でも日本の都市には、工業地帯が一緒になっている場所が多くあり、工業に用いるために⑤多くのエネルギーが輸入されています。また、ものをつくるだけでなく⑥情報を扱う産業も、時代とともに増えていきました。

[問1] 下線部①について、次の問題に答えなさい。

(1) 下のグラフは、2022年に東京都中央卸売市場^{おろしうり}に入荷したキャベツの産地別の量を月ごとに表している。グラフ中のXにあてはまるものを、次のア～エの中から1つ選び、記号で答えなさい。



(東京都中央卸売市場年報より作成)

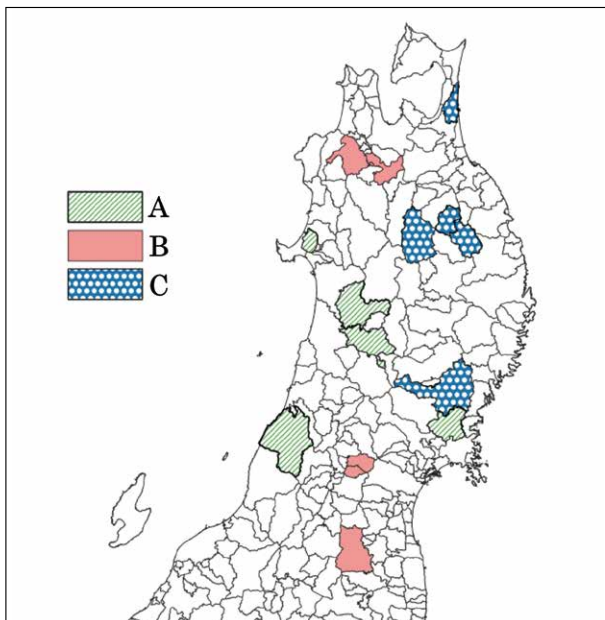
ア. 北海道

イ. 群馬県

ウ. 高知県

エ. 宮崎県

(2) 東北地方は東京に多くの食料を供給している。下の地図のA～Cは東北地方の6県における米、果実、生乳の産出額上位5つの市町村を表している。A～Cと農産品の組み合わせとして最も適当なものを下のア～カから1つ選び、記号で答えなさい。



(生産農業所得統計より作成)

	ア	イ	ウ	エ	オ	カ
A	米	米	果実	果実	生乳	生乳
B	果実	生乳	米	生乳	米	果実
C	生乳	果実	生乳	米	果実	米

(3) 下の表は、こまつな、ばれいしょ（じゃがいも）、みかんの収穫量^{かく}の上位4つの都道府県を表している。こまつなにあたるものを下のア～ウから1つ選び、記号で答えなさい。

	ア	イ	ウ
1位	北海道	和歌山県	茨城県
2位	鹿児島県	愛媛県	埼玉県
3位	長崎県	静岡県	福岡県
4位	茨城県	熊本県	東京都

(作物統計調査より作成)

[問2] 下線部②について、都市では学校や職場に行くために移動している人が多い。下のア～エは、千代田区、新宿区、神津島村（伊豆諸島の島）、稲城市について、その市区町村の人口を100とした時に、そこで働いたり学んだりしている人の数値を示している。東京郊外に開発されたニュータウンの1つである稲城市を表すものを次のア～エの中から1つ選び、記号で答えなさい。

ア. 80 イ. 100 ウ. 227 エ. 1355

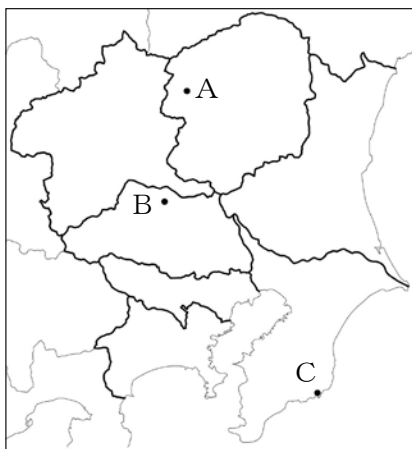
[問3] 下線部③について、次の問題に答えなさい。

(1) 下のア～エは、東京とつながる交通に関する出来事を表している。これらの出来事を年代順に並べた時、3番目にあたるものを1つ選び、記号で答えなさい。

- ア. 日本の経済成長が続く中、東海道新幹線が開通する。
- イ. 新しい時代の交通機関として、新橋－横浜間に鉄道が開通する。
- ウ. 首都防衛のため、陸軍が現在の立川市に立川飛行場を建設する。
- エ. 北海道新幹線が開通し、東京から函館まで新幹線で行けるようになる。

(2) 特に1990年代以降、国境を越えた人や物、お金の移動が地球全体を覆うように活発になっていった。このような現象を「□□□□□化」という。□に入るカタカナ5字を答えなさい。

- (3) 下の表のア～ウは、地図中のA～Cの各地点における年間の平均気温、降水量、降雪の深さを表している。地点Cにあたるものを1つ選び、記号で答えなさい。



	年間の平均気温	年間の降水量	降雪の深さ(年合計)
ア	15.4℃	1306 mm	16 cm
イ	16.0℃	1999 mm	1 cm
ウ	7.2℃	2202 mm	227 cm

(気象庁資料より作成)

[問4] 下線部④について、次の問題に答えなさい。

- (1) 都市で工業がさかんになる中で、多くの公害も生じた。日本で生じた公害についての説明としてあやまっているものを、次のア～エから1つ選び、記号で答えなさい。

- ア. 熊本県では、工場から排出された有機水銀を含む水産物を食べた周辺住民に健康被害が生じた。
- イ. 新潟県では、阿賀野川の下流地域で有機水銀による汚染が生じ、周辺住民に健康被害が生じた。
- ウ. 三重県では、重化学工業の成長により大気汚染が生じ、多くの人に気管支炎やぜんそくなどの被害を生じた。
- エ. 富山県では、吉野川がカドミウムで汚染されたことを背景に、激しい痛みが伴う症状を訴える人が多く生じた。

(2) 下の表のア～エは、東京都、愛知県、大阪府、福岡県における各業種の工業出荷額を示している。福岡県にあたるものを1つ選び、記号で答えなさい。

	印刷および印刷関連業	輸送用機械製造業	化学工業	鉄鋼業
ア	309 388	26 663 352	1 312 675	2 392 145
イ	742 493	1 208 746	382 970	164 620
ウ	451 346	1 562 174	1 657 040	1 441 868
エ	184 348	3 353 780	498 216	976 907

(工業統計調査より作成/単位：百万円)

[問5] 下線部⑤について、下の表は石炭、天然ガス、原油の2021年度における日本の輸入先を示している。表の中にあるXにあたる国を下のア～エから1つ選び、記号で答えなさい。

	石炭(一般炭)	天然ガス	原油
1位	オーストラリア	オーストラリア	サウジアラビア
2位	X	マレーシア	アラブ首長国連邦
3位	インドネシア	カタール	クウェート
4位	アメリカ	X	カタール
5位	カナダ	アメリカ	X

(エネルギー白書より作成)

ア. ブラジル イ. ロシア ウ. インド エ. 中国

[問6] 下線部⑥について、情報を伝えるためにテレビ局では様々な工夫をしている。テレビについての記述としてあやまっているものを次のア～エから1つ選び、記号で答えなさい。

- ア. 夕食時の時間帯はテレビを見ている人が多いため、家族が集まって楽しめるような番組を多く放送する。
- イ. 地震などの災害が生じたときは、テレビ局は通常の放送の途中であっても、それを中断して臨時の放送を行うことがある。
- ウ. 表現の自由が認められているものの、テレビ局はどのような内容でも放送できるわけではなく、一定の公平性が求められる。
- エ. ニュース番組では、情報の正確さが大切であるため、他の番組や新聞、公的機関などが発表した情報のみを伝えるようにする。

2024年度 第2回 入学試験 社会 解答用紙

受験番号				氏名	
------	--	--	--	----	--

1

問1		問2	
----	--	----	--

問3	(1)	
	(2)	

問4		問5		問6	
----	--	----	--	----	--

問7	(1)	
----	-----	--

問7	(2)	
----	-----	--

問8		問9		問10	
----	--	----	--	-----	--

問11		問12		問13	
-----	--	-----	--	-----	--

ここには記入しないこと

--

2

問1	(1)		(2)		(3)		問2	
----	-----	--	-----	--	-----	--	----	--

問3	(1)		(2)					(3)	
----	-----	--	-----	--	--	--	--	-----	--

問4	(1)		(2)		問5		問6	
----	-----	--	-----	--	----	--	----	--

1

--

2

--