

2024年度 第1回 入学試験問題

社 会 (25分)

解答はすべて解答用紙に記入しなさい。

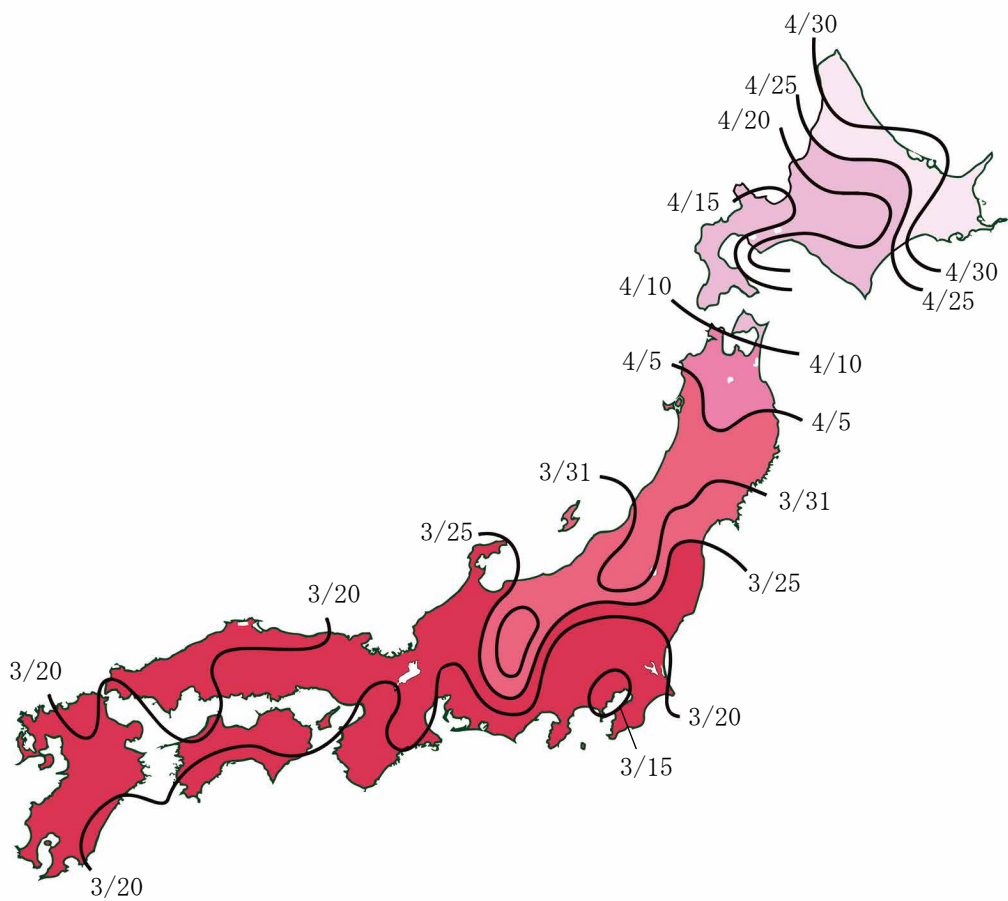
1 次の文章を読んで、あとの問いに答えなさい。

①島国である日本は、②四方を海で囲まれているため、外国からせめられたことがほとんどありません。しかし、外国からせめられる危機がせまった時や、外国からせめられた時に、日本は大きな変化をむかえてきました。

たとえば③「大化の改新」という改革の時期には、④当時、大陸で中国（唐）と朝鮮半島の国々との間で争いが続くなか、日本も国を守る必要にせまられました。また、⑤元との戦いは、後に鎌倉幕府が倒れるきっかけとなりました。江戸時代には⑥外国の圧力をうけて「鎖国」が終わると、江戸幕府への不満が高まり、幕府を倒す計画が進むなか、⑦幕府が朝廷に政権を返したことで、武士の世が終わりました。明治以降の日本は、⑧富国強兵を進めて列強の一員になりましたが、⑨太平洋戦争では敗北して、アジアの植民地を手放しました。戦後の日本は連合国軍の占領下で、⑩民主的な社会をつくるための改革を進め、やがて⑪経済成長を実現しました。

[問1] 下線部①について、日本各地のさくらの開花前線をしめした2ページの地図を見て、この地図から読み取れることとしてあやまっているものを、次のア～エから1つ選び、記号で答えなさい。

- ア. 東京都や神奈川県の一部では、ほかの地域と比べ、さくらがいち早く開花した。
- イ. 日本海側の山陰地方よりも岡山県や香川県などの瀬戸内海沿岸の方が、さくらが早く開花した。
- ウ. 日本アルプスが連なる標高の高い地域は、まわりとくらべてさくらの開花が遅くなった。
- エ. 北海道では、西側の地域でいち早くさくらが開花し、次第に東側の地域に開花前線が移動していった。



(ウェザーマップ「さくら開花前線」より作成)

[問2] 下線部②について、あとの問いに答えなさい。

- (1) 次の表は、日本・韓国・アメリカ・インドネシアの排他的経済水域の面積と、排他的経済水域の面積が領土面積のおよそ何倍にあたるかをまとめたものである。日本を示しているものを、下のア～エから1つ選び、記号で答えなさい。

| | 排他的経済水域の面積 | 領土面積の何倍か |
|---|---------------------|----------|
| ア | 541万km ² | 2.8倍 |
| イ | 447万km ² | 11.8倍 |
| ウ | 762万km ² | 0.8倍 |
| エ | 45万km ² | 4.5倍 |

(『データブック オブ・ザ・ワールド』より作成)

- (2) 日本の領海や排他的経済水域をめぐる問題について書かれたA・Bの文を読み、それぞれの文章が「正(ただし)」か「誤(あやまっている)」かの正しい組み合わせを、下のア～エから1つ選び、記号で答えなさい。

- A. 日本最南端の南鳥島はサンゴ礁^{しょう}でできているため、波でけずられないよう、コンクリートで護岸工事が行われた。
- B. 中国が領有権を主張している尖閣諸島の周辺水域での海洋調査や漁業などを、日本の海上保安庁は取りしまっている。

- ア. A : 正 B : 正 イ. A : 正 B : 誤
ウ. A : 誤 B : 正 エ. A : 誤 B : 誤

[問3] 下線部③の改革の中心人物となったのが、中大兄皇子と中臣鎌足である。

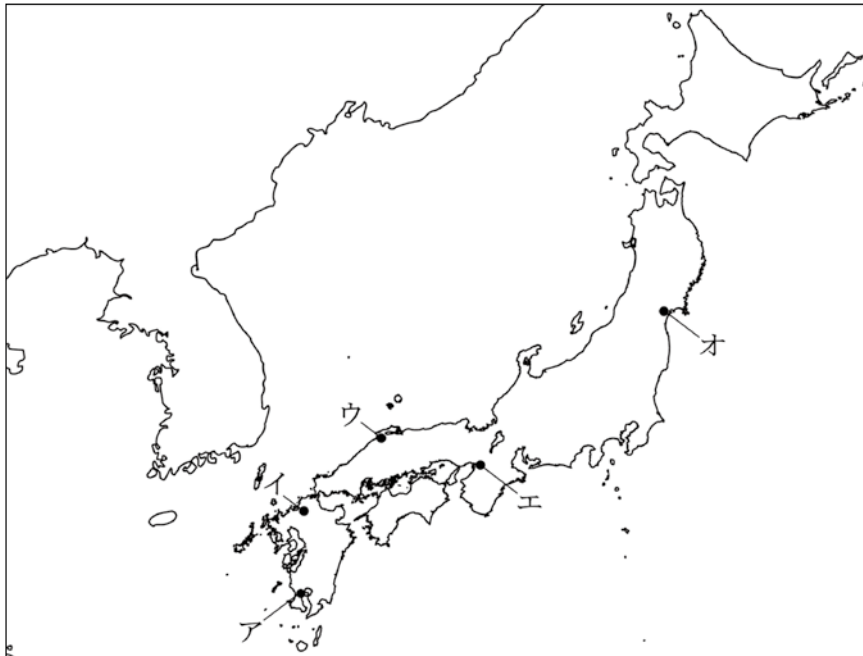
(1) 中大兄皇子らによる大化の改新をきっかけに整えられていった天皇を中心とした政治のしくみの説明として正しいものを、次のア～エから1つ選び、記号で答えなさい。

- ア. 北海道から沖縄まで、全ての土地と人々を戸籍^{こせき}で管理するようになった。
- イ. 天皇の権威^{けんい}を示すため、巨大な前方後円墳をつくらせた。
- ウ. 農民が国に稲や各地の特産品を納める、全国統一の税制が整えられた。
- エ. 能力のある者を役人にとりたてるため、冠位十二階を定めた。

(2) 中臣鎌足の子孫の藤原氏は、平安時代の有力貴族である。平安時代についての説明としてあやまっているものを、次のア～エから1つ選び、記号で答えなさい。

- ア. 藤原道長は、自分のむすめを天皇のきさきにして強い力をもった。
- イ. 貴族を中心に、中国の文化をもとにして国風文化が生まれた。
- ウ. 紫式部の「源氏物語」は、かな文字で書かれた文学作品である。
- エ. 寝殿造のやしきでの貴族の暮らしぶりが、水墨画^{えが}に描かれた。

[問4] 下線部④について、朝廷は、大宰府という拠点に成年男子の農民からなる防人を送り、守りをかためた。大宰府はどこにあったと考えられるか、下の地図中のア～オから1つ選び、記号で答えなさい。



[問5] 下線部⑤について、元との戦いのあと、鎌倉幕府と御家人との間にある「御恩と奉公」の関係がくずれ、御家人は鎌倉幕府に不満をもった。なぜ、御家人が幕府に対して不満をもったのか、説明しなさい。

[問6] 下線部⑥の説明として正しいものを、次のア～エから1つ選び、記号で答えなさい。

- ア. 鎖国の時代にも、長崎でスペインや中国との貿易が続いていた。
- イ. 治外法権など、不平等な内容をふくむ日米修好通商条約が結ばれた。
- ウ. 開国後の物価高に苦しむ民衆を救おうと、大塩平八郎が乱を起こした。
- エ. 薩摩藩の西郷隆盛や、長州藩の勝海舟などの下級武士が活躍した。

[問7] 下線部⑦を行った将軍は□□□■である。最後の■にあてはまる漢字1字を答えなさい。

[問8] 下線部⑧について、太平洋戦争より前の日本の産業の発展や社会の変化についてあやまっているものを、次のア～エから1つ選び、記号で答えなさい。

- ア. 富岡製糸場を中心に近代的な製糸業が発展し、日露戦争後に生糸輸出量が世界第1位となった。
- イ. 重化学工業の発展にともない、足尾銅山の鉍毒事件に代表される公害問題が発生した。
- ウ. 日清戦争に備えて八幡製鉄所がつくられ、^{ぐんかん}軍艦や^{たいほう}大砲などの兵器の国産化が進んだ。
- エ. 社会に出て仕事に就く女性が増えるなかで、平塚らいてうなどが女性の自由と権利の拡大を目指す運動をした。

[問9] 下線部⑨について、太平洋戦争で敗れるまで、日本がアジア各地の植民地や占領地で行ったことについてあやまっているものを、次のア～エから1つ選び、記号で答えなさい。

- ア. 植民地支配が行われた朝鮮において、学校では日本語や日本の歴史を学ぶことを強制された。
- イ. 日中戦争中、日本は台湾や南京（ナンキン）を占領したが、激しい抵抗を受けて戦争が長期化した。
- ウ. 中国東北部に建てた満州国に、本土から人々を移住させて農地の^{かいたく}開拓を進めた。
- エ. 東南アジアでは、石油や天然ゴムなどの資源や食料の取り立て、住民の強制労働などを行った。

[問 10] 下線部⑩の民主化改革の 1 つとして、選挙権がより多くの人に認められてきた。日本における選挙権の広がりについて正しいものを、次のア～エから 1 つ選び、記号で答えなさい。

- ア. 大日本帝国憲法が発布された当初は、皇族・華族・士族の成年男性にのみ選挙権が認められた。
- イ. 1925 年の普通選挙法では、一定額の税を納めれば、全ての成年男性に選挙権が認められた。
- ウ. 1947 年に施行された日本国憲法では、満 25 歳以上の全ての男女に、選挙権が認められた。
- エ. 2015 年に改正された公職選挙法では、満 18 歳以上の全ての男女に、選挙権が認められた。

[問 11] 下線部⑪について、戦後の日本では、鉄鋼や機械、自動車などが主力の輸出産業として成長した。

(1) 日本の高度経済成長についてあやまっているものを、次のア～エから 1 つ選び、記号で答えなさい。

- ア. 朝鮮戦争による特需とくじゅが、経済回復のきっかけとなった。
- イ. 大阪で開かれた万国博覧会にあわせて、東海道新幹線が開通した。
- ウ. 1968 年に、G N P がアメリカに次ぐ世界第 2 位となった。
- エ. 石油危機による世界経済の混乱をうけて、高度経済成長は終わった。

(2) 現在の自動車産業では、関連工場が協力し、必要な部品を必要な数と種類だけ組み立て工場に届けるしくみがとられている。このようなしくみを何とよぶか、正しいものを、次のア～エから1つ選び、記号で答えなさい。

ア. ジャスト・イン・タイム方式

イ. ロット生産方式

ウ. セル生産方式

エ. ベルトコンベア方式

- 2 2023年はG7のサミットが日本で開かれた。それに関連した政太郎君と澤柳先生の会話を読み、あとの問いに答えなさい。

政：去年のサミットは平和への関与を示すのにふさわしい場所として①広島県で開催されたよね。

澤：そうそう。警察の人がいっぱいいたよ。広島サミットは、②各国の大統領とか首相とかそういう人達がたくさん来ていたよね。でも大臣たちは広島ではないところでも会議を開いていたんだ。ちょっと調べてみたら面白いんじゃない。

政：本当だ。4月には、北海道札幌市で気候・エネルギー・環境大臣会合が行われてるね。ここでは、2015年に採択された協定の精神をふまえて、産業における脱炭素化が目指されているみたいだね。この会合を主催した省庁は、(③)と環境省だ。

澤：同じく4月には長野県軽井沢市で外務大臣の会合も開かれていたんだよ。④北陸新幹線に乗って外務大臣がみんなで移動したっていうニュースをやっていたね。ここでは⑤グローバルサウスとの連携も強化しながら国際協力を進めていくということが発信されたんだ。この会合を主催した省庁は、外務省だね。

政：岡山県倉敷市では、労働雇用大臣会合が開かれたみたいだ。⑥G7各国の人口が減少していくなかで、人への投資が大事だと宣言されたみたい。

澤：他にも⑦宮崎県宮崎市では農業大臣会合が、群馬県高崎市ではデジタル・技術大臣会合が開かれていたね。

- [問1] 下線部①について、広島県の形として適切なものを、次のア～エから1つ選び、記号で答えなさい。ただし縮尺はそれぞれ異なる。



ア

イ

ウ

エ

[問2] 下線部②について、あとの問いに答えなさい。

(1) 広島サミットには、ウクライナの大統領が招待され、会議に参加したことで話題になった。この人物の名前を答えなさい。

(2) 広島サミットには、日本からは岸田総理大臣が出席した。日本において総理大臣は内閣を組織しており、日本国憲法第 65 条には、「□□権は、内閣に属する」と記されている。この□□にあてはまる漢字 2 字を答えなさい。

[問3] 文章中の空らん (③) にあてはまる最もふさわしい省庁を、次のア～エから 1 つ選び、記号で答えなさい。

ア. 経済産業省 イ. 厚生労働省 ウ. 国土交通省 エ. 法務省

[問4] 下線部④は、2024 年 2 月現在、長野県をふくめた 7 つの都県を通っている。以下は北陸新幹線の下り線が通る都県であるが、(A) (B) の組み合わせとして正しい県名の組み合わせを、下のア～カから 1 つ選び、記号で答えなさい。

東京都 → 埼玉県 → (A) → 長野県 → 新潟県 → (B) → 石川県

ア. A : 山梨県 B : 岐阜県

イ. A : 山梨県 B : 富山県

ウ. A : 栃木県 B : 岐阜県

エ. A : 栃木県 B : 富山県

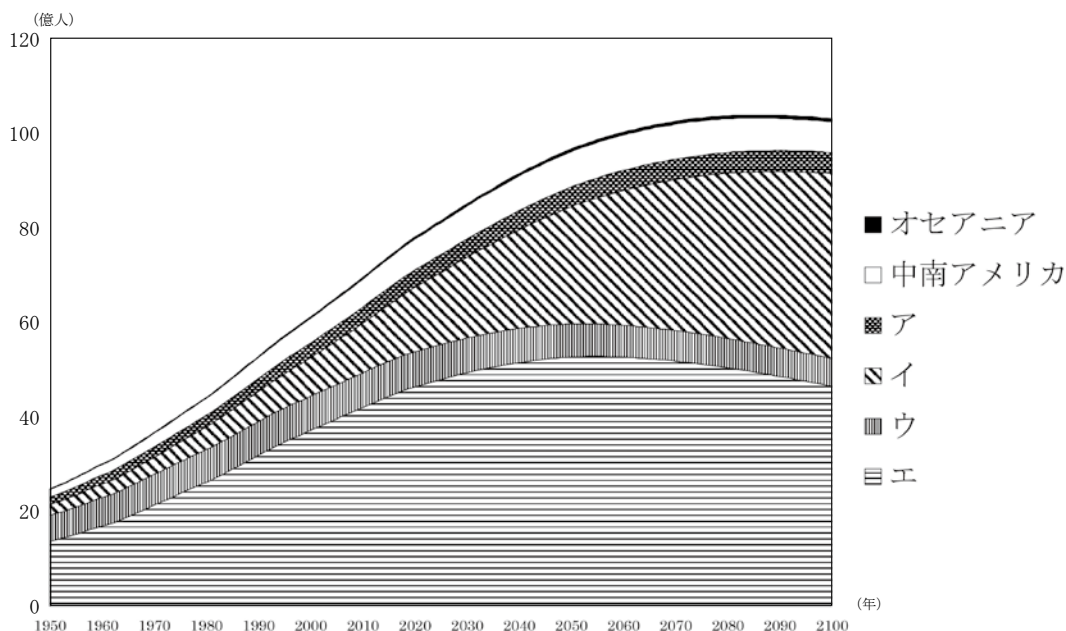
オ. A : 群馬県 B : 岐阜県

カ. A : 群馬県 B : 富山県

[問5] 下線部⑤の説明として正しいものを、次のア～エから1つ選び、記号で答えなさい。

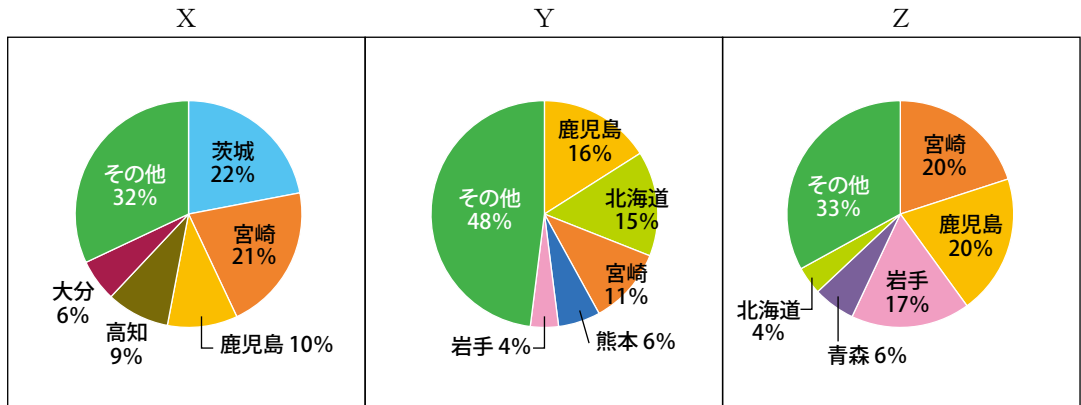
- ア．太平洋を取り囲む国々の間での自由貿易や投資、知的財産権の保護など幅広い分野でのルールをつくるための取り決め。
- イ．インドやブラジル、トルコ、南アフリカといったアジアやアフリカ、中南アメリカの新興国や途上国の総称。
- ウ．タイやインドネシアなど東南アジアの平和と安定の促進や、経済・科学技術分野での相互協力の促進などを目的として設立された地域協力機構。
- エ．産油国のイラン、イラク、クウェート、サウジアラビアなどが原油の生産調整と価格引き上げを主なねらいとしてつくった組織。

[問6] 下線部⑥と関連して、次のグラフは、世界の地域別の人口の変化と予想を表している。グラフ中のア～エは、ヨーロッパ・アフリカ・アジア・北アメリカのいずれかを表す。このうちアフリカをあらわすものを、ア～エから選び、記号で答えなさい。



(国連資料より作成)

[問7] 下線部⑦について、次の3つのグラフは、宮崎県が全国の上位に入る農作物の2021年の出荷額の県別の割合を示しており、X～Zはピーマン・ブロイラー（肉用鶏の一種）・肉用牛のいずれかを表す。X～Zと農作物の組み合わせとして正しいものを、下のア～カから1つ選び、記号で答えなさい。



(生産農業所得統計より作成)

| | ア | イ | ウ | エ | オ | カ |
|---|-------|-------|-------|-------|-------|-------|
| X | 肉用牛 | 肉用牛 | ブロイラー | ブロイラー | ピーマン | ピーマン |
| Y | ブロイラー | ピーマン | 肉用牛 | ピーマン | 肉用牛 | ブロイラー |
| Z | ピーマン | ブロイラー | ピーマン | 肉用牛 | ブロイラー | 肉用牛 |

澤：5月には、⑧新潟県新潟市で財務大臣・中央銀行総裁会議が開かれたみたいだね。

また宮城県仙台市では、科学技術大臣の会合が開かれたみたいだよ。

政：同じくらいのタイミングで、教育大臣の会合が富山県富山市・石川県金沢市で開かれたみたいだね。あと、⑨長崎県長崎市では保健大臣の会合も開かれたようだね。

澤：6月には、交通大臣の会合が三重県志摩市で、男女共同参画・女性活躍担当大臣^{かつやく}会合が栃木県日光市で開催されたんだ。大臣の集合写真で日本だけ男性の大臣だったことが話題になったね。日光声明では、ジェンダー平等を達成することが改めて目標とされたんだ。

政：⑩香川県高松市では、都市大臣の会合が行われたみたいだね。

澤：10月には大阪府堺市で貿易大臣の会合や、12月には茨城県水戸市でも内務・安全担当大臣の会合が開かれていたね。

政：サミットの議長国としての役割は1年間続くんだね。勉強になったよ。

[問8] 下線部⑧について、新潟市は2007年4月1日に本州の日本海側の都市として初めて政令指定都市になった。政令指定都市とは政府から指定された人口50万人以上の都市のことを指す。政令指定都市に関して説明した文としてあやまっていますのものを、次のア～エから1つ選び、記号で答えなさい。

ア. 神奈川県には複数の政令指定都市がある。

イ. 政令指定都市のうち最も南にあるのは、福岡市である。

ウ. 東北地方にある政令指定都市は、仙台市のみである。

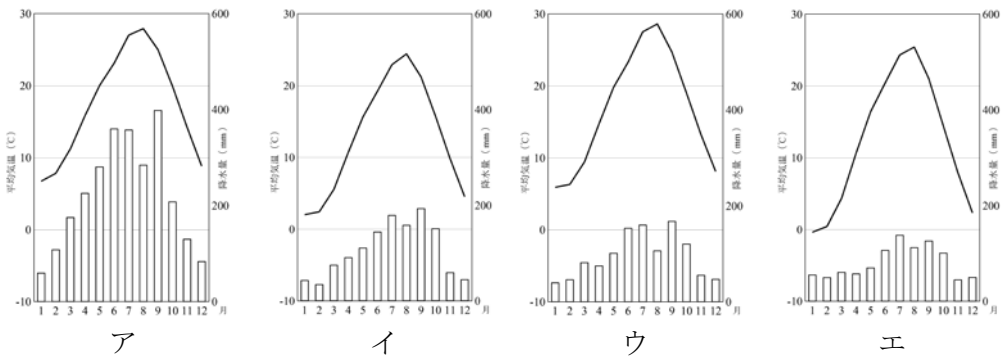
エ. 東京23区は特別区のため、政令指定都市ではない。

[問9] 下線部⑨について書かれたA・Bの文を読み、それぞれの文章が「正(た
だしい)」か「誤(あやまっている)」かの正しい組み合わせを、下のア～エか
ら1つ選び、記号で答えなさい。

A. 長崎県の対馬は、朝鮮半島との窓口としての役割を歴史的に果たしてきた。
B. 江戸時代の禁教期にもこの地では仏教信仰を継続していたとして、天草地方と
ともに世界文化遺産に登録されている。

- ア. A:正 B:正 イ. A:正 B:誤
ウ. A:誤 B:正 エ. A:誤 B:誤

[問10] 下線部⑩について、次の雨温図は、仙台・長野・高知・高松のいずれかの
ものである。高松の雨温図を、次のア～エから1つ選び、記号で答えなさい。



(気象庁資料より作成)

[問11] 9ページと13ページの会話文中には、広島以外に大臣会合が行われた15
の都市がでてくる。これらの都市のうち、県庁所在地ではないものはいくつ
あるか、数字で答えなさい。

[問12] 13ページの会話文中に登場する二重下線部_____に関して、現在、有権者
の約52%が女性であるにも関わらず、衆議院議員に占める女性の割合は約
10%、参議院議員に占める女性の割合は約26%となっている。このように女
性の国会議員が少ないことは、日本社会にとってどのような点で問題になる
のか。考えられることを1つあげて、説明しなさい。

2024年度 第1回 入学試験 社会 解答用紙

| | | | | | | | | | |
|------|--|--|--|--|----|--|--|--|--|
| 受験番号 | | | | | 氏名 | | | | |
|------|--|--|--|--|----|--|--|--|--|

1

| | | | | | | | | | | | |
|----|--|----|-----|--|-----|--|----|-----|--|-----|--|
| 問1 | | 問2 | (1) | | (2) | | 問3 | (1) | | (2) | |
|----|--|----|-----|--|-----|--|----|-----|--|-----|--|

| | |
|----|--|
| 問4 | |
|----|--|

| | |
|----|--|
| 問5 | |
| | |
| | |

| | | | | | | | | | |
|----|--|----|--|----|--|----|--|-----|--|
| 問6 | | 問7 | | 問8 | | 問9 | | 問10 | |
|----|--|----|--|----|--|----|--|-----|--|

| | | | | |
|-----|-----|--|-----|--|
| 問11 | (1) | | (2) | |
|-----|-----|--|-----|--|

ここには記入しないこと

| |
|--|
| |
|--|

1

| |
|--|
| |
|--|

2

| | |
|----|--|
| 問1 | |
|----|--|

| | | | | |
|----|-----|--|-----|--|
| 問2 | (1) | | (2) | |
|----|-----|--|-----|--|

| | | | | | | | | | |
|----|--|----|--|----|--|----|--|----|--|
| 問3 | | 問4 | | 問5 | | 問6 | | 問7 | |
|----|--|----|--|----|--|----|--|----|--|

| | | | | | | | |
|----|--|----|--|-----|--|-----|--|
| 問8 | | 問9 | | 問10 | | 問11 | |
|----|--|----|--|-----|--|-----|--|

| | |
|-----|--|
| 問12 | |
| | |

2

| |
|--|
| |
|--|