

2023年度 第2回 入学試験問題

社 会 (25分)

解答はすべて解答用紙に記入しなさい。

1 次の文章を読んで、あとの問いに答えなさい。

大阪には古くから人が住み、生活していたことがわかっています。5世紀の古墳時代には、近畿地方に大きな前方後円墳がたくさん作られました。その中でも、大阪府堺市の【 X 】古墳は日本最大の前方後円墳で、近畿地方に大きな勢力があったことがわかります。この時代の大阪には、難波津^{なにわづ}という港があり、①アジア各国との外交の窓口として貿易や文化交流において重要な役割を果たしました。

②平安時代になると、③瀬戸内海から淀川を経て平安京へ通じる水上交通の要^{かなめ}として栄えました。その後、④源平の戦いや南北朝の内乱では戦いの舞台になりました。また、1582年に明智光秀をたおした《 A 》は、大阪城を築いて天下統一を進めました。

⑤江戸時代には、大阪は「【 Y 】」と呼ばれ、全国から物資が集まり、物流や商業の中心地として発展しました。それと同時に、この時代の大阪では、町人の間で広まった文化も開花し、芝居小屋^{しばい}はいつも大勢の人でにぎわっていました。

⑥明治維新以降、明治政府が⑦硬貨^{こうか}や大砲などの工場を大阪に建てたことにより、工業都市として発展していきました。

⑧第二次世界大戦で大阪は空襲^{しゅう}によって大きな被害を受けたものの、⑨戦後は復興を果たし、1970年にはアジアで初めての⑩万国博覧会が行われました。

[問1] 空らん【 X 】・【 Y 】にあてはまる語句を、解答らんに合わせてそれぞれ答えなさい。

[問2] 下線部①について、あとの問いに答えなさい。

(1) 日本とアジアの外交についての説明として正しいものを、次のア～エから1つ選び、記号で答えなさい。

- ア. 聖武天皇は、大陸の政治や文化を学ばせるために、遣隋使を派遣した。
- イ. 室町幕府8代将軍の足利義政は、中国の明と貿易を行い、大きな利益を得た。
- ウ. 江戸時代には、松前藩がアイヌとの交易を独占することを江戸幕府から認められていた。
- エ. 1895年に日本は清との戦争に勝利し、朝鮮や遼東半島を領土として獲得した。

(2) 大陸から伝わった文化の一つに仏教がある。仏教が日本に伝わると、聖徳太子は大阪に四天王寺を建てた。聖徳太子について説明をした次のA・Bの文を読み、それぞれの文が「正(ただしい)」か「誤(あやまっている)」かの正しい組み合わせを、下のア～エから1つ選び、記号で答えなさい。

A : 聖徳太子は、豪族の蘇我氏をせめほろぼし、天皇を中心とする政治のしくみを整えた。

B : 聖徳太子は、朝廷の役人の位を12段階に分けて、家がらを重視して役人を取り立てた。

- ア. A : 正 B : 正
- イ. A : 正 B : 誤
- ウ. A : 誤 B : 正
- エ. A : 誤 B : 誤

[問3] 下線部②について、次のア～エから平安時代の文化財を1つ選び、記号で答えなさい。



ア.



イ.



ウ.



エ.

[問4] 下線部③について、次の問題に答えなさい。

(1) 瀬戸内地方についての説明として正しいものを、次のア～エから1つ選び、記号で答えなさい。

- ア. 海岸線が複雑で長くなっていることから良港が発達し、沿岸漁業が行われている。
- イ. 夏は日照時間が長いですが、冬になると季節風の影響によって山間部を中心に多くの降雪がある。
- ウ. 山間部の高地を中心に高冷地農業がさかんに行われ、キャベツやはくさいを多く出荷している。
- エ. 臨海部に工業地域が発達しており、明治時代に日本で初めての官営製鉄所が作られたことから鉄鋼業がさかんである。

(2) 次の a～d の文は、瀬戸内海に接している県について説明したものである。

a～d のいずれの説明にもあてはまらない県を下のア～オから 1 つ選び、記号で答えなさい。

- a. 激しい潮流が観光地として有名で、すだちの生産が多いことでも知られる。
- b. 「日本書紀」に登場する温泉地があり、タオルや養殖真鯛まだいで有名である。
- c. 瀬戸大橋がかかっており、オリーブの生産量が全国 1 位である。
- d. 県内に 2 つの世界遺産があり、レモンの生産でも有名である。

ア. 愛媛県 イ. 岡山県 ウ. 香川県 エ. 徳島県 オ. 広島県

[問 5] 下線部④について、日本の歴史上おこった戦いの説明として正しいものを、次のア～エから 1 つ選び、記号で答えなさい。

- ア. 源頼朝は自ら京都へ攻めのぼり、最後には山口県の壇ノ浦で平氏をほろぼした。
- イ. 2 度にわたり日本に攻めてきた元軍は、集団戦法や火縄銃を使用して鎌倉幕府を苦しめた。
- ウ. 室町幕府の将軍のあとつぎ問題をめぐり、守護大名同士が対立する応仁の乱がおこった。
- エ. 鳥羽・伏見の戦いから始まった戊辰戦争で、旧幕府軍は江戸城に立てこもって新政府軍と戦い、降伏した。

[問6] 下の文章は、《 A 》の人物が出したある政策の史料の一部をやさしく書き直したものである。史料から読み取ることができるこの政策の目的を文章で説明しなさい。ただし、《 A 》の人物名とこの政策の名称を必ず解答に入れること。

一 百姓が刀、やり、鉄砲などの武器を持つことを禁止する。武器をたくわえ、年貢を納めず一揆をくわだてる者は罰する。

(中 略)

一 百姓は農具さえ持って、農業に専念すれば子孫の代まで末永く幸せである。

[問7] 下線部⑤について、江戸時代に大阪で発生した出来事として正しいものを、次のア～エから1つ選び、記号で答えなさい。

ア. 大塩平八郎が、苦しい生活をする人々を救うために反乱を起こした。

イ. アメリカの使節ペリーが、4隻の軍艦^{せき ぐんかん}を率いて来航し、開国を求めた。

ウ. 天草四郎が、キリスト教信者ら約3万7000人を率いて一揆を起こした。

エ. 徳川家康が、1600年に起こった戦いで、石田三成ら西軍に勝利した。

[問8] 下線部⑥について、明治維新で行われたこととしてあやまっているものを、次のア～エから1つ選び、記号で答えなさい。

ア. 解放令によって、それまで差別されてきた人々も平民とされた。

イ. 徴兵令によって、20歳以上の男子は軍隊へ入ることが義務となった。

ウ. 明治政府の基本的な政治方針を示した五か条の御誓文を出した。

エ. 交通と通信の整備を進め、新橋・大阪間で日本初の鉄道を開通させた。

[問 9] 下線部⑦について、大阪市には造幣局ぞうへいきょくの本局が置かれている。造幣局では、硬貨以外にオリンピックのメダルや記念メダルも作られる。アジア初の冬季オリンピックである札幌オリンピックが行われた 1972 年に起きた出来事として正しいものを、次のア～エから 1 つ選び、記号で答えなさい。

- ア. 日本が国際連合に加盟した。
- イ. 沖縄がアメリカから日本に返還された。
- ウ. 日中平和友好条約が結ばれた。
- エ. 日本に自衛隊が発足した。

[問 10] 下線部⑧について、次のア～エは、第二次世界大戦について説明したものである。時代の古い順番に並べかえ、その順番を記号で答えなさい。

- ア. 日本軍が、イギリス領マレー半島を攻撃した。
- イ. アメリカ軍が、沖縄島に上陸した。
- ウ. アメリカ軍が、広島に原子爆弾を投下した。
- エ. 日本が、ドイツやイタリアと同盟を結んだ。

[問 11] 下線部⑨について、戦後には日本国憲法が作られた。日本国憲法に関する説明として正しいものを、次のア～エから 1 つ選び、記号で答えなさい。

- ア. 天皇は「国政に関する権能を有しない」と書かれていることから、政治に直接かかわることはできないが、一国民として選挙権は持っている。
- イ. 第 9 条では、戦争の放棄ほうきや戦力を持たないことを定めているが、自衛隊を持つことは許されると記されている。
- ウ. 基本的人権おこは侵すことのできない永久の権利とされており、現在だけでなく将来の国民にも与えられるとされている。
- エ. 憲法改正の手続きは、法律の改正と同じ手続きで行われる。そのため、憲法改正の賛成・反対について国民が直接投票をする機会はない。

[問 12] 下線部⑩について、大阪で2度目の万国博覧会を開催することが決定している。2度目の大阪万博が開催される年を西暦で答えなさい。

2 次の文章を読んで、あとの問いに答えなさい。

民法という①法律が改正されたことにより、2022年4月から成年とされる年齢が18歳へ引き下げられました。この法改正によって、18歳から大人として扱われ、様々な権利が認められることになりました。例えば、旅行などで②外国へ行くときに③空港などで確認されるパスポートも、18歳になれば10年間有効のものを作ることができるようになりました。その一方で、成年とされる年齢を引き下げることによって、若い人たちが④契約などでトラブルに巻き込まれることを心配する人も多く、特に、⑤お金に関するトラブルを心配する声が多くあります。

また、2015年の公職選挙法の改正により、18歳以上の日本国民に⑥選挙権が与えられました。この法改正によって、⑦有権者（選挙権を持っている人）の数が増え、若い人たちが政治へ参加することへの期待が高まっています。

[問1] 下線部①について、日本の歴史に登場する法令（ルール）について説明した文として正しいものを、次のア～エから1つ選び、記号で答えなさい。

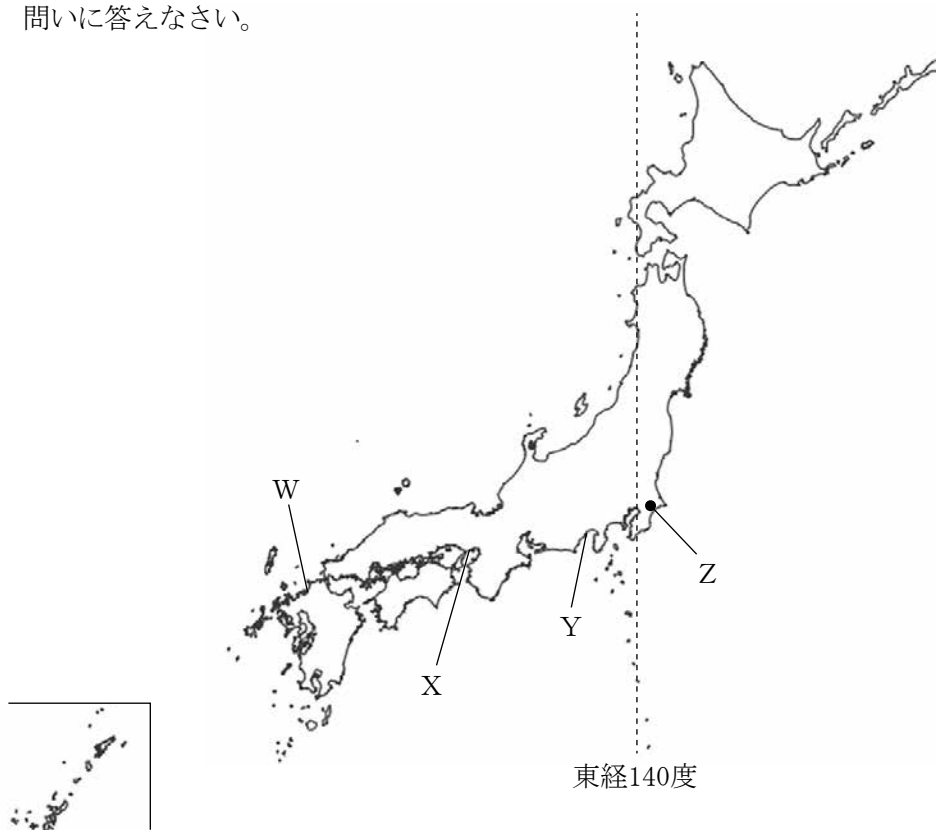
- ア. 8世紀の初めには、当時の中国にならって大宝律令がつくられ、蘇我氏などの貴族を中心とした国家づくりが進められた。
- イ. 源頼朝は、鎌倉幕府を開いたあと、武士の裁判の基準を定めた御成敗式目をつくり、武士への支配を強めた。
- ウ. 江戸幕府は、全国の大名を取りしめる武家諸法度をつくり、将軍の許可なく大名家同士が結婚することを禁じた。
- エ. 第一回帝国議会が開かれた後、明治政府への批判をおさえるために、治安維持法が定められた。

[問2] 下線部②について、次の文は、日本と関係が深い国について説明したものである。この説明にあてはまる国を、下のア～エから1つ選び、記号で答えなさい。

広大な熱帯雨林を持つこの国は、明治時代に初めて日本と外交関係を結びました。それ以降、日本人の移住が始まり、その子孫も含めると現在では約200万人の移住者がこの国で暮らしています。また、日本は、この国に機械類を多く輸出する一方で、とうもろこしなどをこの国から輸入しています。

ア. 中国 イ. オーストラリア ウ. アメリカ エ. ブラジル

[問3] 下線部③について、空港は港とともに貨物や旅客の輸送のために使われる。下の地図のW、X、Yは港、Zは空港を示している。これについて、あとの問いに答えなさい。



(1) 次の表は、地図上のW～Zのいずれかの港、空港の貿易額上位5品目を示したものである。地図上のW～Zのどの港、空港について示したものが、記号で答えなさい。

輸出品目		輸入品目
自動車	1 位	魚介類
集積回路 (ICチップ)	2 位	家具
タイヤ・チューブ	3 位	衣類
半導体等製造装置	4 位	絶縁電線・ケーブル
プラスチック	5 位	肉類

(『日本国勢図会 2022/23』より作成)

(2) WとZの経度の差はどれくらいあるのか、最も近いものを、次のア～エから1つ選び、記号で答えなさい。

ア． 5度 イ． 10度 ウ． 15度 エ． 20度

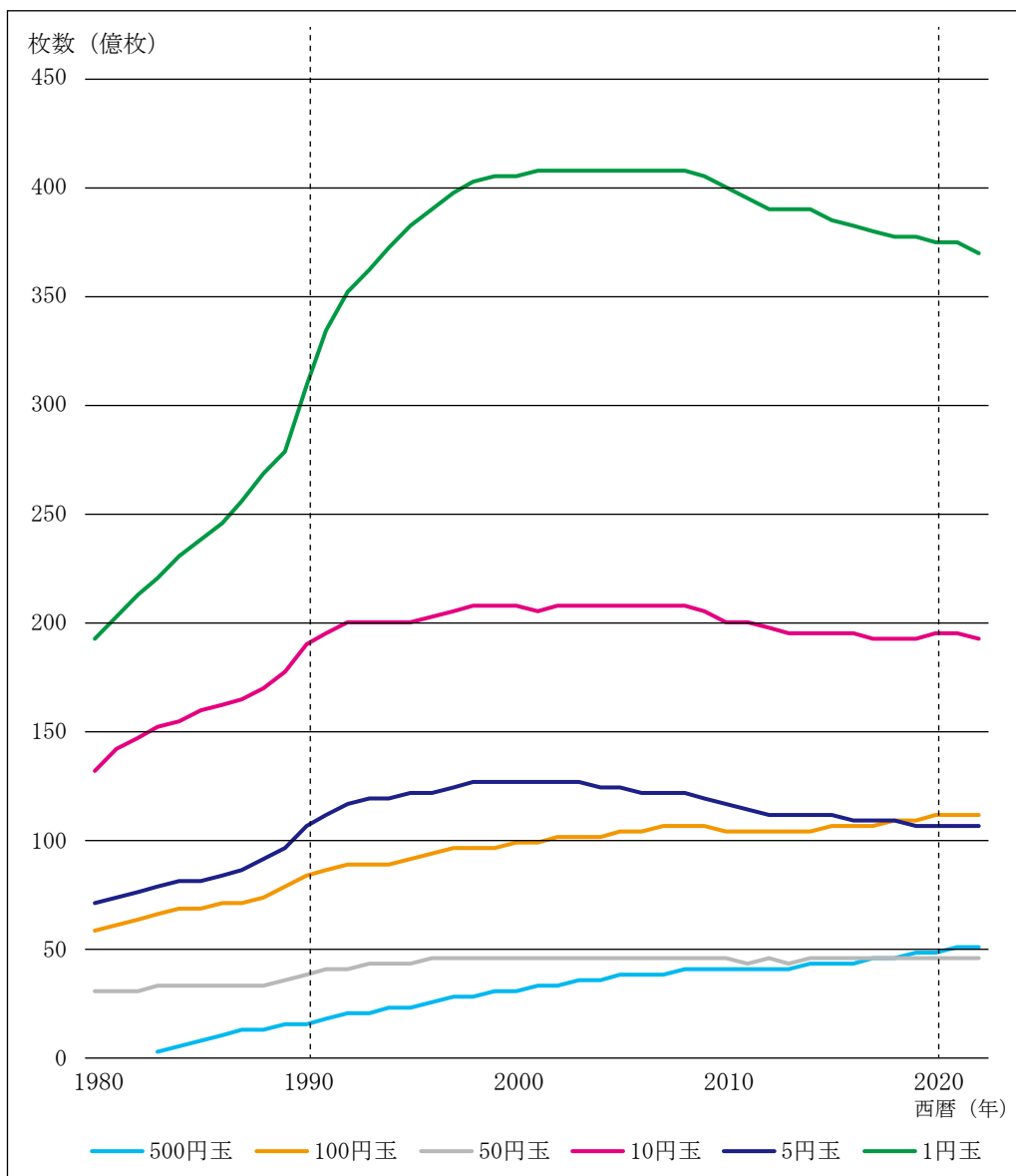
[問4] 下線部④について、トラブルを解決する方法の一つに、裁判を行うことがある。日本の裁判や裁判官について説明した文としてあやまっているものを、次のア～エから1つ選び、記号で答えなさい。

- ア． 国会は、犯罪をした裁判官をやめさせるかどうかの判断を行う権限を持っている。
- イ． 国民は、裁判官を直接選ぶことはできないが、最高裁判所の裁判官については、国民審査をすることができる。
- ウ． 裁判に関わる人びとのプライバシーを守るために、国民が裁判を見ることは、一切認められていない。
- エ． 裁判所は、国会が制定した法律や内閣による行政処分などが、憲法に違反していないかどうか審査することが憲法で認められている。

[問5] 下線部⑤について、硬貨の流通枚数は毎年変化している。次のグラフは、1980年～2022年の硬貨の種類別の流通枚数の変化を表したものである。これについて、あとの問いに答えなさい。

1980年～2022年の硬貨の種類別の流通枚数

(※500円玉は1983年以降のもの)



(「日本銀行 時系列統計データ検索サイト」より作成)

(1) グラフから読み取れることとして、正しいものを次のア～エの中から1つ選び、記号で答えなさい。

- ア. グラフに記されている期間の中では、どの種類の硬貨も流通枚数は増え続けている。
- イ. 1円玉と10円玉の流通枚数の差は、1980年から2020年にかけて2倍以上に広がっている。
- ウ. 100円玉の流通枚数が5円玉の流通枚数より多くなったのは、今から10年以上前のことである。
- エ. 2020年の1円玉の流通枚数は、2020年の他の硬貨の流通枚数を合計した枚数よりも多い。

(2) 1990年に1円玉の流通枚数が大きく変化している。その理由として、1989年4月から「ある税」が日本に導入されたことがあげられる。なぜ、この時期に1円玉の流通枚数が大きく変化したのか、「ある税」を明らかにして説明しなさい。

[問6] 下線部㉔について、日本の選挙について説明した文としてあやまっているものを、次のア～エから1つ選び、記号で答えなさい。

- ア. 選挙権は日本国憲法で認められた権利の一つで、国民主権を実現するための権利でもある。
- イ. 仕事や用事があるため選挙当日に投票に行けない人でも、事前に投票するしくみが整えられている。
- ウ. 選挙で選ばれた国会議員は、自身に投票してくれた地域の人たちの利益を最優先にして活動をしなければならない。
- エ. 大正時代に25歳以上のすべての男性に選挙権が認められたが、女性に選挙権が認められたのは第二次世界大戦後である。

[問7] 下線部⑦について、次の表は東北地方の県の有権者数などについてまとめたものである。これについて、あとの問いに答えなさい。なお、あとの問いに出てくるA～Eとは、表の中のA～Eの県名のことである。

県名	有権者数*(人)	面積(km ²)	陸地で接する県の数
A	194万	7282	4
B	160万	13784	6
C	111万	9646	2
D	107万	15275	3
E	93万	9323	4
秋田県	86万	11638	4

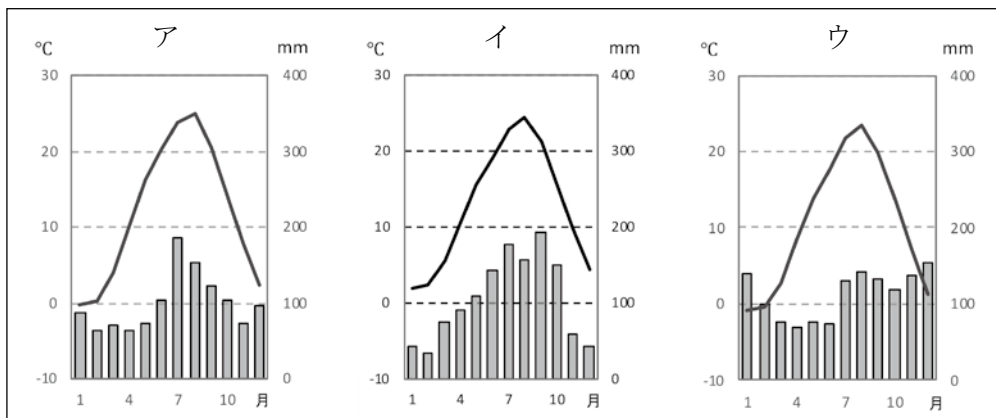
*有権者数は、2019年の参議院議員通常選挙におけるもの。

(総務省「目で見える投票率」、『データで見る県勢(第30版、第31版)』より作成)

(1) 東北地方の川とその川が流れている県の組み合わせとしてあやまっているものを、次のア～エから1つ選び、記号で答えなさい。

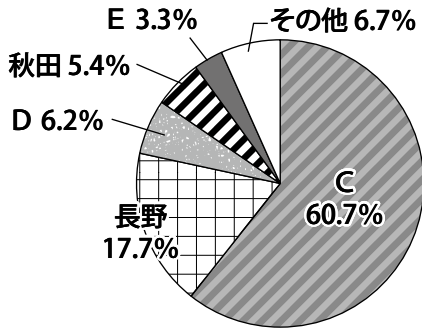
ア. 雄物川－A イ. 阿武隈川－B ウ. 北上川－D エ. 最上川－E

(2) 次の3つの雨温図は、A、C、Eのいずれかの県庁所在地のものである。Aの雨温図を、次のア～ウから1つ選び、記号で答えなさい。

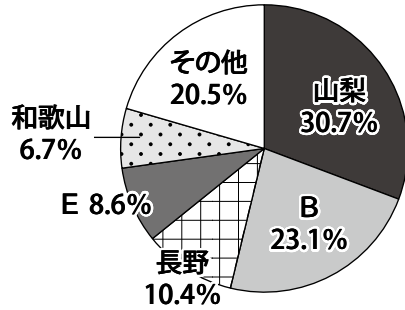


(気象庁資料より作成)

(3) 次の2つの円グラフは、農産物の都道府県別の生産割合を表したものである。
 X、Yにあてはまる農産物の組み合わせとして正しいものを、下のア～エから
 1つ選び、記号で答えなさい。



X



Y

(『データで見る県勢 (第31版)』より作成)

- | | |
|---------------------|---------|
| ア. X : おうとう (さくらんぼ) | Y : ぶどう |
| イ. X : おうとう (さくらんぼ) | Y : もも |
| ウ. X : りんご | Y : ぶどう |
| エ. X : りんご | Y : もも |

(4) 東北地方にある世界遺産として正しいものを、次のア～エから1つ選び、記号
 で答えなさい。

- ア. 石見銀山 イ. 松島 ウ. 白神山地 エ. 富岡製糸場

2023年度 第2回 入学試験 社会 解答用紙

受験番号					氏名				
------	--	--	--	--	----	--	--	--	--

1

問1	X			Y			の		
----	---	--	--	---	--	--	---	--	--

問2	(1)		(2)		問3	
----	-----	--	-----	--	----	--

問4	(1)		(2)		問5	
----	-----	--	-----	--	----	--

問6	

問7		問8		問9	
----	--	----	--	----	--

問10		→		→		→
-----	--	---	--	---	--	---

問11		問12		年
-----	--	-----	--	---

ここには記入しないこと

--

1

--

2

問1		問2		問3	(1)		(2)		問4	
----	--	----	--	----	-----	--	-----	--	----	--

問5	(1)	
	(2)	

問6		問7	(1)		(2)		(3)		(4)	
----	--	----	-----	--	-----	--	-----	--	-----	--

2

--