

2022年度 第2回 入学試験問題

社 会 (25分)

解答はすべて解答用紙に記入しなさい。

- 1 「おじいちゃん・おばあちゃんにインタビューしよう」という宿題のために、そうすけ君は電話で話を聞きました。次の文を読んで、あとの問いに答えなさい。

まず、そうすけ君は京都市に住むおじいちゃんに昔のことや住んでいる町のことを聞きました。すると、おじいちゃんは次のようなことを話してくれました。

おじいちゃんが子供の時は第二次世界大戦が終わるころで、アメリカ軍からの空襲くうしゅうにもあったことがある。そして、①おじいちゃんの誕生日のちょうど3週間前ぎよくおんに玉音放送というものが流れて、第二次世界大戦が終わったことを知った。

今でこそ②京都は外国人もたくさん訪れる有名な観光地になったけれども戦後しばらくは③京都駅のまわりにアメリカ軍がたくさんいて、今とは全然ちがう様子だったんだよ。

あとは、④おじいちゃんが住む京都市は⑤SDGsというものに力を入れていて、ある新聞社の調査によるとSDGsの取り組みで全国1位をとった*こともあるらしいよ。

(*日本経済新聞社「第1回SDGs先進度調査」(「日経グローカル誌 355号」2019年1月7日発行)

[問1] 下線部①について、このおじいちゃんの誕生日は何月何日か、答えなさい。

[問2] 下線部②について、次の問題に答えなさい。

- (1) 次のうち、京都市にある歴史に関わる場所としてあやまっているものを、次のア～エ から1つ選び、記号で答えなさい。

ア. 大政奉還を行なった二条城

イ. 「応仁の乱ぼっぼつ勃発*地」という石標 (* 勃発…事件などが突然起こること。)

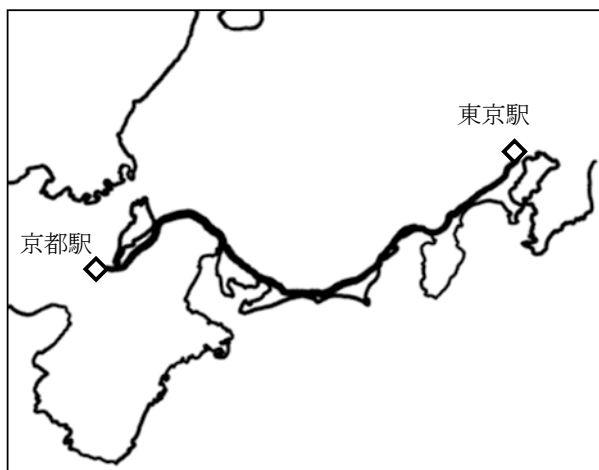
ウ. 平安時代に建てられた仏堂である中尊寺金色堂

エ. 足利義満によって建てられた金閣 (鹿苑寺)

(2) 京都市内には、国際連合の専門機関であるUNESCOによって登録された世界遺産がある。国際連合について説明したものとして正しいものを、次のア～エから1つ選び、記号で答えなさい。

- ア. 現在の加盟国は190をこえている。
- イ. 国際連合の本部はスイスにある。
- ウ. 日本は安全保障理事会の常任理事国のひとつである。
- エ. 現在、国際連合の事務総長は日本人が務めている。

[問3] 下線部③について、そうすけ君は家族でおじいちゃんの家に行くときに東京駅から京都駅まで新幹線を使っていました。次の問題に答えなさい。なお、下の地図は東京駅から京都駅までの新幹線の路線を表したものである。



(1) 次のア～エの景色を、東京駅から京都駅に向かうときに新幹線から見える順番にならべかえ、その順番を記号で答えなさい。

- ア. ビルの間に小さく名古屋城の天守が一瞬見えた。^{いっしゅん}
- イ. 富士川と富士山が同時に見えた。
- ウ. 遠くに延暦寺で有名な比叡山が見えた。^{ひえいざん}
- エ. 木々が見えた後に、浜名湖が見えた。

(2) 次の ア～オ のうち、新幹線で東京駅から京都駅へ向かう間に通過する都市の説明としてあてはまるものを2つ選び、記号で答えなさい。なお ア～オ は「今治市」「北九州市」「浜松市」「富士市」「四日市市」のいずれかについて説明したものである。

- ア. 豊富な地下水をもとに、製紙業やパルプ工業がさかんである。
- イ. 石油化学コンビナートで有名だが、公害によるぜんそくもおきた。
- ウ. 昔は八幡製鉄所を中心にさかえたが、近年は工業生産額が減っている。
- エ. 造船や綿工業が盛んで、日本有数のタオルの産地としても有名である。
- オ. 昔から楽器の生産がさかんで、現在はオートバイの生産もさかんである。

[問4] 下線部④について、京都市は三方を山に囲まれた平地に市街地が作られていることから、夏は暑く、冬の寒さは厳しい。京都市のように周りを山々に囲まれ、周囲よりも低い平地のことを特に何というか、ひらがなで答えなさい。

[問5] 下線部⑤について、京都市でSDGsの取り組みが進んでいる理由のひとつに、地球環境問題に早くから取り組んでいたことがある。次の京都市の取り組みのなかで、地球環境問題に関する取り組みとして最も関わりがうすいものを、次の ア～エ から1つ選び、記号で答えなさい。

- ア. 市の中心部の通りの歩道の幅を3m広くし、車道を2車線減らした。
- イ. 市の郊外に多くの駐車場を整備し、バスなどで市内に入れるようにした。
- ウ. 太陽光発電システムを取り入れるときに、市が補助をしてくれる。
- エ. 市内のお店の赤や黄色など目立つ色の看板を、茶色などに変えた。

続いて、そうすけ君は柏崎市かしわざきに住むおばあちゃんに昔のことや住んでいる町のことを聞きました。おばあちゃんは次のようなことを話してくれました。

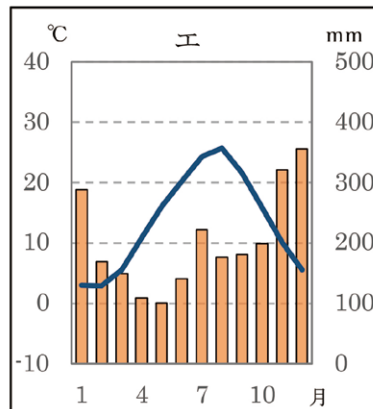
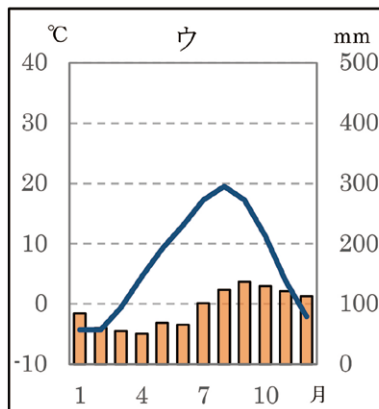
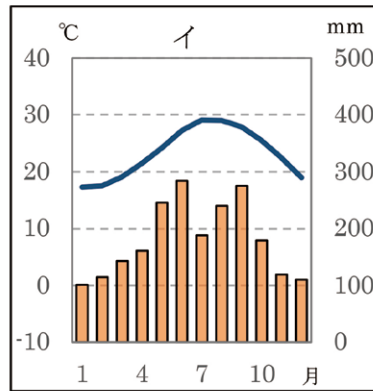
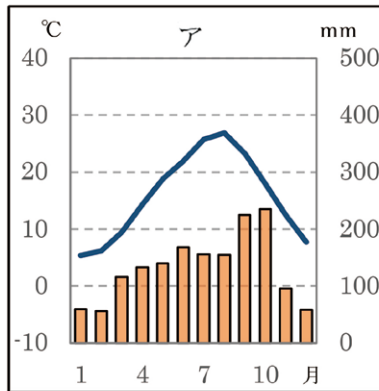
おばあちゃんが住む新潟県の⑥柏崎市は海に面していて、夏には多くの人が海水浴をしに遊びに来るところよ。あと、原子力発電所があることでも有名ね。有名といえば、⑦田中角栄という総理大臣が生まれたところもここなのよ。

昔から⑧稲作を中心とした農業や漁業が盛んにおこなわれているわね。さらに、40年くらい前に高速道路が通ったこともあって、今では観光客も多く来るようになったわ。そうすけ君もこの高速道路を使って、おばあちゃんに会いに来てくれていたわよね。

あと、2004年と2007年に大きな⑨地震が起きて、こわい思いをしたことを今でもはっきり覚えているわ。

[問6] 下線部⑥について、次の問題に答えなさい。

(1) 柏崎市の雨温図として正しいものを次のア～エから1つ選び、記号で答えなさい。



(気象庁ウェブサイトより作成)

- (2) 柏崎市をはじめ、都道府県や市区町村の議会では独自の法令を作っている。都道府県や市区町村内のみで有効となる独自に作る法令のことを何というか、漢字で答えなさい。

[問7] 下線部⑦について、次の問題に答えなさい。

- (1) 田中角栄は1972年～1974年に総理大臣を務めていた。この期間の出来事として正しいものを、次のア～エから1つ選び、記号で答えなさい。

- ア. 日米安全保障条約が結ばれた。
- イ. アジア初となる東京オリンピックが行われた。
- ウ. 日本と中国の間で国交が正常化した。
- エ. 日本が国際連合に加盟した。

- (2) 総理大臣について説明したものとして正しいものを、次のア～エから1つ選び、記号で答えなさい。

- ア. 自衛隊の最高指揮監督権かんとくをもっている。
- イ. 日本国憲法改正の発議をすることができる。
- ウ. 制定された法律を公布する。
- エ. 作られた法律が憲法に反していないかを審査する。

[問8] 下線部⑧について、次の問題に答えなさい。

- (1) 稲作は平野で行われることが多い。稲作が行われている平野とその都道府県の組み合わせとしてあやまっているものを、次のア～エから1つ選び、記号で答えなさい。

- ア. 越後平野 — 新潟県
- イ. 庄内平野 — 秋田県
- ウ. 筑紫平野 — 福岡県
- エ. 濃尾平野 — 岐阜県

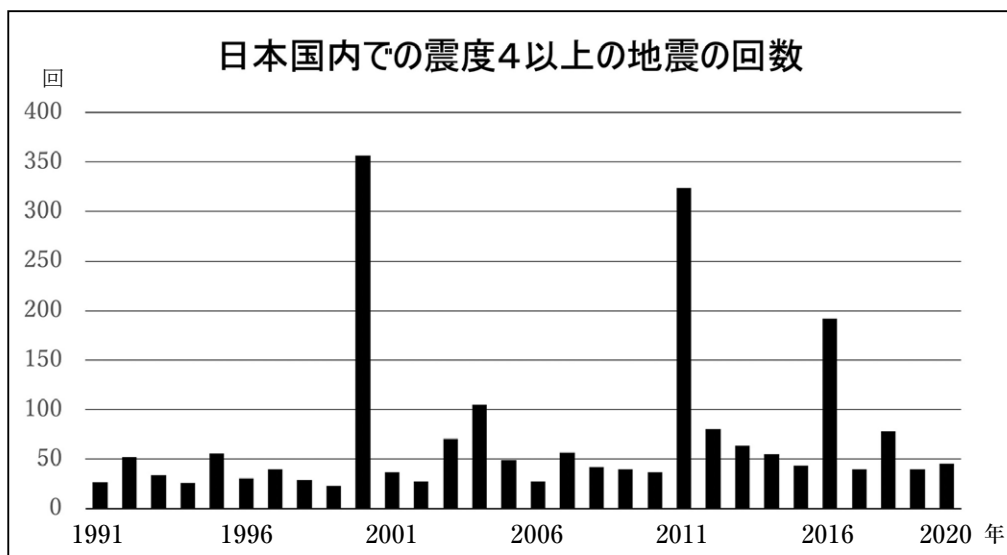
(2) 日本の漁業について説明したものとして正しいものを、次の ア～エ から1つ
選び、記号で答えなさい。

- ア. 水深 200m までの大陸だなが広がっているところは豊かな漁場である。
- イ. 暖流と寒流がぶつかる黒潮とよばれるところで、多くの魚が取れる。
- ウ. 収入が安定していることから、漁業で働く人が 50 年前より増えている。
- エ. 50 年前は沖合漁業が中心だったが、現在は遠洋漁業が中心である。

(3) 日本の食料生産や食料問題について説明したものとして正しいものを、次の
ア～エ から1つ選び、記号で答えなさい。

- ア. 農業で働く人が減ったことから、日本で消費されるコメの半分以上は外国
から輸入されたコメである。
- イ. 外国で日本食ブームがおきていることもあり、日本から輸出する農産物は
20 年前に比べて増えている。
- ウ. 食料自給率が下がっている理由の1つに、地元の食材を地元で消費する
地産地消が多くのところで行われていることがある。
- エ. しょうゆやみその原料である大豆は、日本に昔からある食べ物でもあり、
輸入はほとんどされていない。

[問9] 下線部⑨について、下のグラフは1991年～2020年の30年間における日本国内で観測された震度4以上の地震の回数を表したものである。このグラフから読み取れることとして正しいものを、次のア～エから1つ選び、記号で答えなさい。



(気象庁ウェブサイト「地震データベース」より作成)

- ア. グラフにある30年間の中で、年間に50回以上の震度4以上の地震が観測されている年は半分以上ある。
- イ. 震度4以上の地震が年間で100回以上おきた年は4回あり、その年に最大震度である震度7の地震がおきている。
- ウ. 震度4以上が300回をこえた年の翌年以降10年間は、震度4以上の地震が年間に100回未満となっている。
- エ. 震度4以上の地震が1年間でおきた回数は、1991年～2000年の平均回数より2011年～2020年の平均回数の方が多い。

2 人類は古代から現代にいたるまで、様々な理由で移動をくりかえしてきた。「移動」について書かれた次の文章を読んで、あとの問いに答えなさい。

①日本列島は昔から中国や朝鮮半島との関係が深く、そこから人々が多く移り住んできた。彼らは仏教などの文化や土木建築、②文字を伝えた。また、16世紀にはヨーロッパの人々により③鉄砲が伝わった。

江戸時代には④五街道や、各地を結ぶ船の航路が整えられた。このような⑤交通網の整備によって人や物の移動がさかんになった。

⑥技術を学ぶため、また貿易を行うために外国に使節を送ることもあれば、逆に外国から使節団が送られてくることもあった。例えば江戸時代末期にアメリカは⑦ペリーを使者として日本に開国を求め、⑧条約を結んだ。

⑨西郷隆盛が流罪となった奄美大島や徳之島をはじめとして、隠岐島や佐渡島は流罪の地として昔から多くの人々が送られてきた。このような流罪は、政治的な罪人を中央から遠ざけるという意味合いがあったが、離島に文化が伝わるきっかけにもなった。同じことは外国でも行われており、⑩オーストラリアもかつてはイギリスから罪人が送られる場所であった。

鉄道が広まった1880年代以降は、移動のスピードも増した。日本で初めての鉄道は、【 X 】・【 Y 】間に建設されたものである。1964年には東海道新幹線が開通し、さらに2027年には⑪リニア中央新幹線の開通も予定されている。

グローバル化が進んだ現代は、昔とくらべて人々の移動が簡単になった。しかし、日本は長い間、難民をふくめた移民の受け入れには消極的な国のひとつだった。

⑫一方、近年の日本政府は外国人労働者の受け入れには前向きになってきている。

[問1] 文中【 X 】と【 Y 】にあてはまる地名の組み合わせとして正しいものを、ア～エ から1つ選び、記号で答えなさい。

ア. X : 大阪 Y : 神戸

イ. X : 新橋 Y : 横浜

ウ. X : 大阪 Y : 京都

エ. X : 横浜 Y : 京都

[問2] 下線部①について、日本列島と中国や朝鮮半島との関係性として正しいものを、ア～エ から1つ選び、記号で答えなさい。

- ア. 聖武天皇は中国と朝鮮に学び、仏教の力で社会不安をしずめるため、全国に国分寺を、平安京に東大寺をつくり、大仏づくりを始めた。
- イ. 鎌倉幕府の将軍が北条時宗のとき、中国を支配した元は日本に遠征軍を送った。元と戦ったが十分なほうびがもらえず、御家人の不満は高まった。
- ウ. 江戸時代、朝鮮との貿易や外交は対馬藩を通して行われた。朝鮮からは将軍がかわるごとに朝鮮通信使が派遣されていた。
- エ. 日本は第一次世界大戦後に、朝鮮半島を植民地とした。朝鮮の学校では日本語や日本の歴史の授業が行われるようになった。

[問3] 下線部②について、文字の歴史として正しいものを、次の ア～エ から1つ選び、記号で答えなさい。

- ア. ひらがなやカタカナから漢字が作られた。
- イ. 紫式部は、かな文字を使って「枕草子」という随筆を書いた。
- ウ. 「日本書紀」は、ひらがなを用いて書かれた。
- エ. 奈良時代、税として納める品の名前と産地を木簡に文字で記した。

[問4] 下線部③について、鉄砲が伝来した場所を漢字で答えなさい。

[問5] 下線部④について、江戸時代に行われた五街道の整備は、幕府が各地の大名を従えるために行ったある制度と関係している。この制度について説明しなさい。その際に以下の条件を満たすように、文章で書きなさい。

条件1. この制度を整えた将軍の名前を記すこと

条件2. この制度の名称をあげること

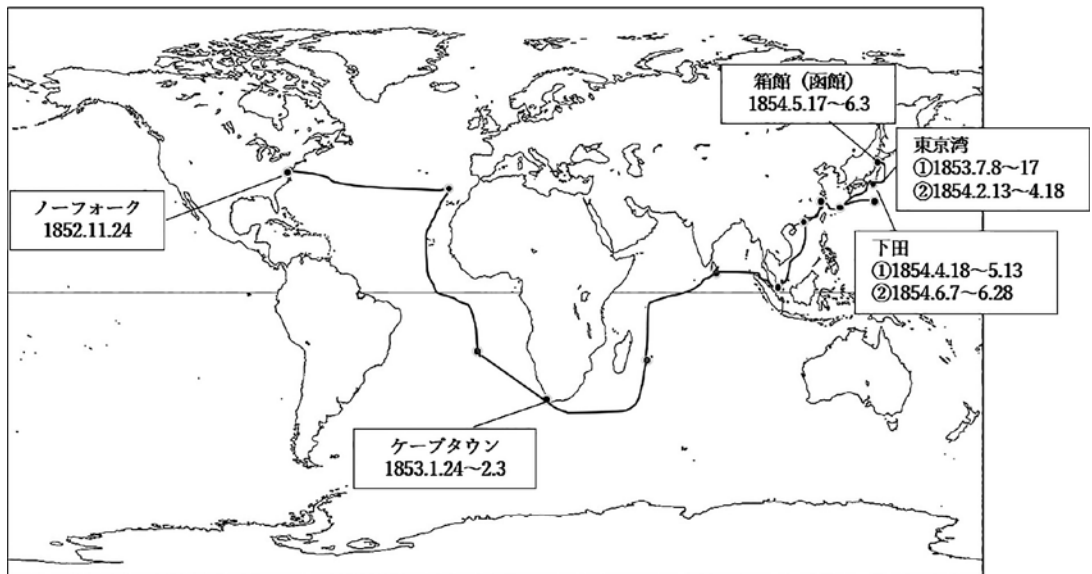
条件3. この制度が各地の大名を従わせるのになぜ有効だったのか説明すること

[問6] 下線部⑤について、橋の果たす役割も大きい。1999年までには四国と本州をつなぐ橋が完成し、高い経済効果をもたらしている。四国と本州をつなぐ橋のうち、最も西にある橋が通る、四国の県の名前を漢字で答えなさい。

[問7] 下線部⑥の貿易について、次の ア～エ は、日本と海外との貿易や交流の歴史について説明したものである。時代順にならべたときに2番目にあたるものを1つ選び、記号で答えなさい。

- ア. 横浜で行われた貿易は、イギリスが最も有力な貿易相手であった。
- イ. 平清盛が^{おおわだのとまり}大輪田泊を整備し、さかんに中国と貿易を行った。
- ウ. 漢委奴国王と刻まれた金印をもらったとされる。
- エ. 勘合という書類を用いて、正式な貿易船を見きわめていた。

[問8] 下線部⑦について、下の地図は、ペリー艦隊の日本遠征航路と寄港地を示したものである（数字は寄港した年月日を表している）。地図を参考にして、ペリー艦隊について説明したA・Bの文の正誤の組み合わせとしてふさわしいものを、次の ア～エ から1つ選び、記号で答えなさい。



- A. ペリー艦隊は、アメリカから太平洋をわたってきた。
- B. ペリー艦隊は、日米和親条約を結んだ後、開港予定地を訪れていた。

	A	B
ア	正しい	正しい
イ	正しい	あやまっている
ウ	あやまっている	正しい
エ	あやまっている	あやまっている

[問9] 下線部⑧について、江戸時代に外国との間に結ばれた条約は、不平等な内容をふくんでいた。明治時代に条約改正の交渉こうしやうが行われるが、条約改正についての説明として正しいものを、次の ア～エ から1つ選び、記号で答えなさい。

- ア. トルコ船の事故であるノルマントン号事件をきっかけに関税自主権てつぱいの撤廃を求める世論が高まった。
- イ. 小村寿太郎はイギリスと交渉を行い、治外法権を撤廃させるとともに、関税自主権の一部を回復させた。
- ウ. 日本に関税自主権がないとは、日本が輸出する製品にかかる税金の税率を日本が決める権利がないという状態であった。
- エ. 外国に治外法権を認めていたため、日本にいる外国人が日本で罪をおかした場合、その外国人は出身国の法律で裁かれた。

[問10] 下線部⑨について、次の問題に答えなさい。

(1) 西郷隆盛が流罪となった奄美大島と徳之島を含む、「奄美大島、徳之島、沖縄島北部および西表島」は、2021年7月に世界遺産に登録された。UNESCOではどの遺産に分類されたか、解答らんにあうように漢字2字で答えなさい。

(2) 隠岐島に流罪となった人物として正しいものを、次の ア～エ から1つ選び、記号で答えなさい。

- ア. 後鳥羽上皇 イ. 後白河天皇 ウ. 桓武天皇 エ. 天智天皇

(3) 下の地形図は、隠岐島の一部をあらわしている。この地形図の読み取りとして
あやまっているものを、次の ア～エ から1つ選び、記号で答えなさい。



(国土地理院発行 2万5千分の1地形図「西郷」より)

- ア. 「港町」には裁判所がある。
- イ. 「^{かんべ}神米」の東側には水田がある。
- ウ. 「文化会館」の西側に図書館がある。
- エ. 「隠岐の島町運動公園」の南側に老人ホームがある。

[問11] 下線部⑩について、現在のオーストラリアは、石炭の輸出を通して日本と関係が深い国のひとつである。石炭消費について説明した次の文のうち正しいものを、ア～エ から1つ選び、記号で答えなさい。

- ア. 「脱炭素」が世界的な課題となっている現在、クリーンなエネルギーとして石炭を利用しようとする動きが高まっている。
- イ. 日本は国内で消費される石炭のほぼすべてを輸入にたよっているが、輸入された石炭の多くは電力事業に用いられている。
- ウ. 石炭は石油と比べて値段は高いが、世界各地で産出されるため特定の地域にたよらないエネルギー源として注目されている。
- エ. 石炭の大量消費が、オゾン層破壊による有害な紫外線増加の主な原因となっていることが問題視されている。

[問12] 下線部⑪について、リニア中央新幹線の運行ルートは南アルプスの地下を通る予定である。南アルプスとはどの山脈を指しているか、次の ア～エ から1つ選び、記号で答えなさい。

- ア. 飛驒山脈 イ. 越後山脈 ウ. 赤石山脈 エ. 奥羽山脈

[問13] 下線部⑫について、近年の日本政府が外国人労働者の受け入れには前向きである理由として、どのようなことが考えられるか。日本が抱える人口問題と関連づけて述べなさい。

2022年度 第2回 入学試験 社会 解答用紙

受験番号					氏名	
------	--	--	--	--	----	--

1

問1		月		日	問2	(1)		(2)	
----	--	---	--	---	----	-----	--	-----	--

問3	(1)		→		→		→		(2)		
----	-----	--	---	--	---	--	---	--	-----	--	--

問4					問5		
----	--	--	--	--	----	--	--

問6	(1)		(2)		問7	(1)		(2)	
----	-----	--	-----	--	----	-----	--	-----	--

問8	(1)		(2)		(3)		問9		
----	-----	--	-----	--	-----	--	----	--	--

ここには記入しないこと

--

1

--

2

問1		問2		問3		問4	
----	--	----	--	----	--	----	--

問5	

問6		県	問7		問8		問9	
----	--	---	----	--	----	--	----	--

問10	(1)		遺産	(2)		(3)		問11	
-----	-----	--	----	-----	--	-----	--	-----	--

問12		問13	

2

--